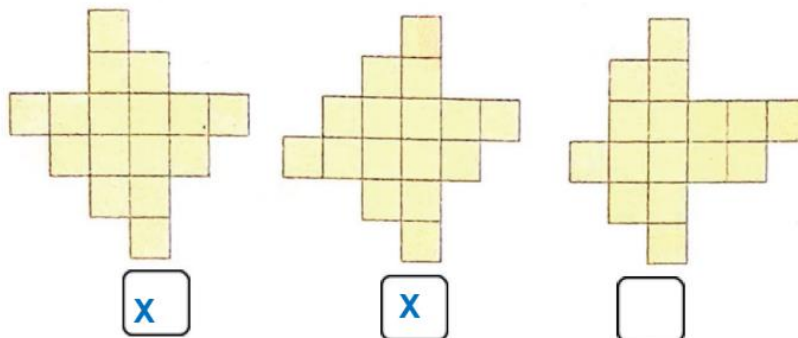


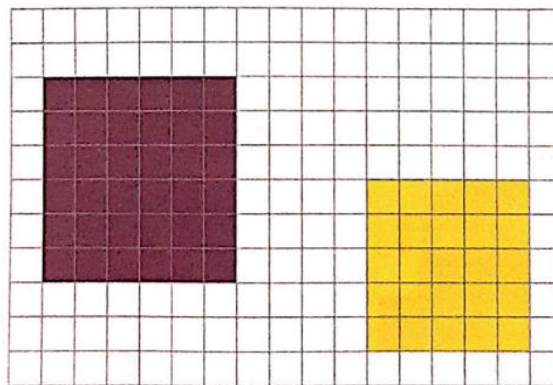
PET 4 – 3º Ano – 5ª Semana
Componente Curricular: Matemática

1 – Observe as figuras a seguir, que são formadas pela mesma quantidade de quadradinhos.



- Agora, marque com o X as figuras que têm o mesmo formato.

2 – Observe os quadrados na malha abaixo e, depois responda às questões.



Imagens disponíveis em: Livro "Aprender e relacionar - Matemática", 3º ano - página 185, 2017.

A) Compare visualmente os quadrados e responda: Qual deles é maior? O primeiro ou o segundo?

O primeiro.

B) Cada um desses quadrados é formado por quantos quadradinhos coloridos?

O quadrado vermelho é formado por 36 quadradinhos e o amarelo é formado por 25 quadradinhos.

3 - Observe as figuras abaixo.

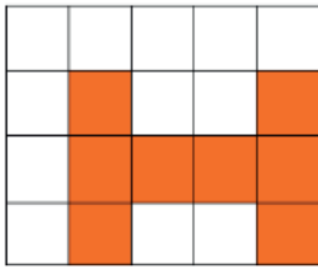


Figura 1

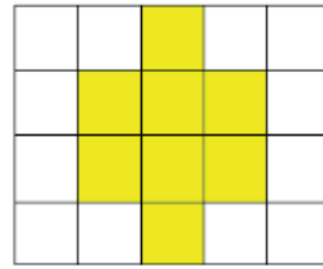


Figura 2

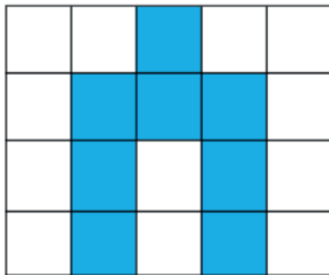


Figura 3

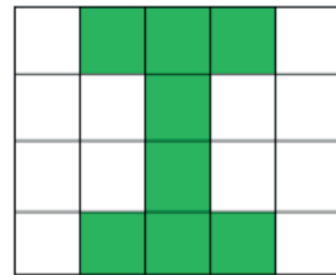
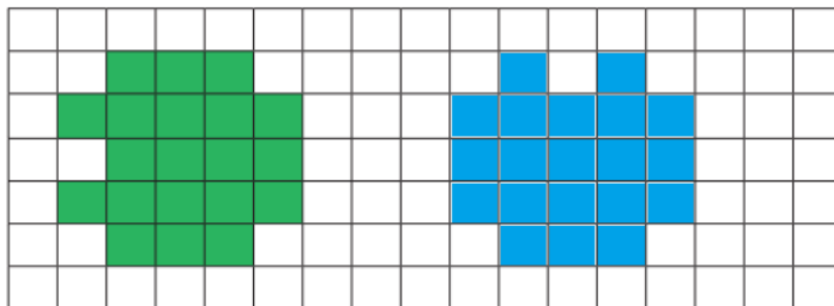


Figura 4

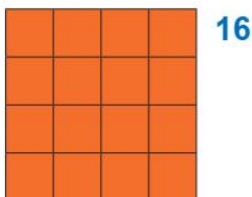
A) Cada figura é formada por quantos quadradinhos? **8.**-----

B) Quais dessas figuras têm o mesmo formato? **1 e 4.**-----

4 - Observe a figura na malha a seguir e desenhe, em posição diferente, outra figura que tenha o mesmo formato e seja formada pela mesma quantidade de quadradinhos.



5 - João comprou ladrilho e reformou o piso de seu banheiro.



Indique qual figura abaixo possui a mesma área que a do piso do banheiro do João:

A figura 3.

Figura 1

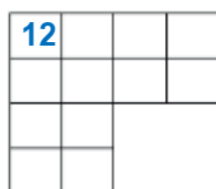


Figura 2

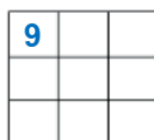


Figura 3



Por que você fez essa escolha?

Porque a figura 3 possui a mesma quantidade de quadradinhos.

Imagem disponível em: <https://pixabay.com/pt/illustrations/pessoas-homem-mulheres-av%c3%b3-vov%c3%b4-4035403/>. Acesso