

PET 4 – 2º Ano – 5ª Semana
Componente Curricular: Matemática

1- Observe o relógio e responda as questões.



Disponível em: <https://www.estudamos.com.br/atividades-com-relogios/atividades-com-horas-e-minutos-8.php>. Acesso em: 03 ago. 2021.

A) Qual é a função do relógio?

Marcar as horas, minutos e segundos.

B) O ponteiro grande marca os **minutos.**


C) O ponteiro pequeno marca as **horas.**

D) Quantas horas o relógio está marcando? **1 hora e 41 minutos.**


2- Observe os relógios e escreva as horas encontradas em cada um deles.




2 horas.




7 horas.



9 horas.



6 horas.



4 horas.



11 horas.

Disponível em <http://atividades-imprimir.blogspot.com/2014/09/desenhos-e-moldes-cliparts-de-relogios.html>. Acesso em: 04 ago. 2021.

3 – Resolva os desafios matemáticos.

A) Julieta sai para ir para escola às 7 horas, ela chega na escola às 07 horas e 40 minutos. Quanto tempo ela gasta de sua casa até a escola?

Ela gasta 40 minutos.

B) Carlos foi ao mercado, chegou lá às 14 horas e terminou as compras às 17 horas e 15 minutos. Quanto tempo Carlos gastou para fazer as compras?

Ele gastou 3 horas e 15 minutos.

C) Jucélia levou o cachorro para tomar banho, chegando lá ela teve que esperar. O banho do cachorro demorou 2 horas. Quanto tempo Jucélia permaneceu esperando para ir embora para casa?

2 horas ou 120 minutos.

4 – Complete as lacunas (espaços).

Uma hora são **60** minutos.

Meia hora são **30** minutos.

O dia tem **24** horas.

Dois dias tem **48** horas.