

MATEMÁTICA 5ª SEMANA

TEMA: Medidas de tempo

Caro estudante, nesta semana você aprender sobre medidas de tempo, uso do relógio e suas funções, você irá aprender mais um pouco sobre horas e intervalos de tempo. Para desenvolver as atividades você precisa compreender como é medido o nosso tempo e os instrumentos usados para esse cálculo.

BREVE APRESENTAÇÃO:

As **medidas de tempo surgiram para atender a diversas necessidades dos seres humanos**, como compreender o período de tempo entre o cultivo e a colheita ou, até mesmo, o momento em que o Sol vai se pôr. A **primeira referência para controle do tempo foi o Sol**, assim, os primeiros relógios controlavam o tempo de acordo com a posição da Terra em relação à principal estrela do Sistema Solar.

Atualmente, medir o tempo continua sendo uma tarefa importante e, por isso, surgiram **relógios analógicos e calendários**. Existem várias unidades de medida de tempo, como a hora, minuto, segundo, semana, dia, ano, década, século, entre outras.

UNIDADE	EQUIVALE A
1 dia	24 horas
1 semana	7 dias
1 quinzena	15 dias
1 mês	28 ou 29 dias (fevereiro) 30 ou 31 dias (demais meses)
1 bimestre	2 meses
1 trimestre	3 meses
1 quadrimestre	4 meses
1 semestre	6 meses
1 ano	12 meses ou 365 dias
1 década	10 anos
1 século	100 anos
1 milênio	1.000 anos

Disponível em: <https://escolakids.uol.com.br/matematica/unidades-de-medida-de-tempo.htm>. Acesso em: 04 ago. 2021.

PARA SABER MAIS: Acesse o link e assista ao vídeo – Medidas de tempo. Disponível em: <<https://youtu.be/B-l5HEXoGnM>>. Acesso em: 04 abr. 2021.

ATIVIDADES

1- Observe o relógio e responda as questões.



Disponível em: <https://www.estudamos.com.br/atividades-com-relogios/atividades-com-horas-e-minutos-8.php>. Acesso em: 03 ago. 2021.

A) Qual é a função do relógio?

B) O ponteiro grande marca os _____


C) O ponteiro pequeno marca as _____

D) Quantas horas o relógio está marcando? _____


2 - Observe os relógios e escreva as horas encontradas em cada um deles.




.....



.....



.....



.....



.....



.....

Disponível em <http://atividades-imprimir.blogspot.com/2014/09/desenhos-e-moldes-cliparts-de-relogios.html>. Acesso em: 04 ago. 2021.

3 – Resolva os desafios matemáticos.

A) Julieta sai para ir para escola às 7 horas, ela chega na escola às 07 horas e 40 minutos. Quanto tempo ela gasta de sua casa até a escola?

B) Carlos foi ao mercado, chegou lá às 14 horas e terminou as compras às 17 horas e 15 minutos. Quanto tempo Carlos gastou para fazer as compras?

C) Jucélia levou o cachorro para tomar banho, chegando lá ela teve que esperar. O banho do cachorro demorou 2 horas. Quanto tempo Jucélia permaneceu esperando para ir embora para casa?

4 – Complete as lacunas (espaços).

Uma hora são _____ minutos.

Meia hora são _____ minutos.

O dia tem _____ horas.

Dois dias tem _____ horas.