

MATEMÁTICA 4ª SEMANA

TEMA: Relação entre grama e quilograma.

Nesta semana, você resolverá atividades que envolvem medidas de massa, relação entre grama e quilograma. Você aprenderá mais um pouco sobre diferentes associações de medida de massa em nosso cotidiano.

BREVE APRESENTAÇÃO:

Em matemática, quando falamos em medidas de massa, é necessário compreender o conceito de quilograma e grama, que são medidas de massa (quantidade de matéria) de alimentos, objetos, pessoas e são necessárias para o nosso cotidiano.

1 Kg – 1000 gramas.

Meio quilograma – 500 gramas.

PARA SABER MAIS:

Acesse o Link e assista o vídeo – Quilograma, grama e miligrama. Disponível em: <<https://www.youtube.com/watch?v=iGG2a4itU4Y>>. Acesso em: 03 ago. 2021.

ATIVIDADES

1 – Com 1 quilograma (Kg) de açúcar Júlia consegue fazer 10 receitas de bolo de cenoura. Quantos desses bolos eu consigo fazer com:

A) 2 quilogramas de açúcar _____

B) Meio quilograma de açúcar _____

C) 4 quilogramas de açúcar _____

Adaptado do livro: Fazer, compreender e criar em Matemática, 2º ano do Ensino Fundamental. Ed. 5. São Paulo, 2014.

2 –Pinte o gráfico de acordo com a quantidade de quilogramas indicada para cada fruta.

	BANANA	3 KG
	MAÇA	2 KG




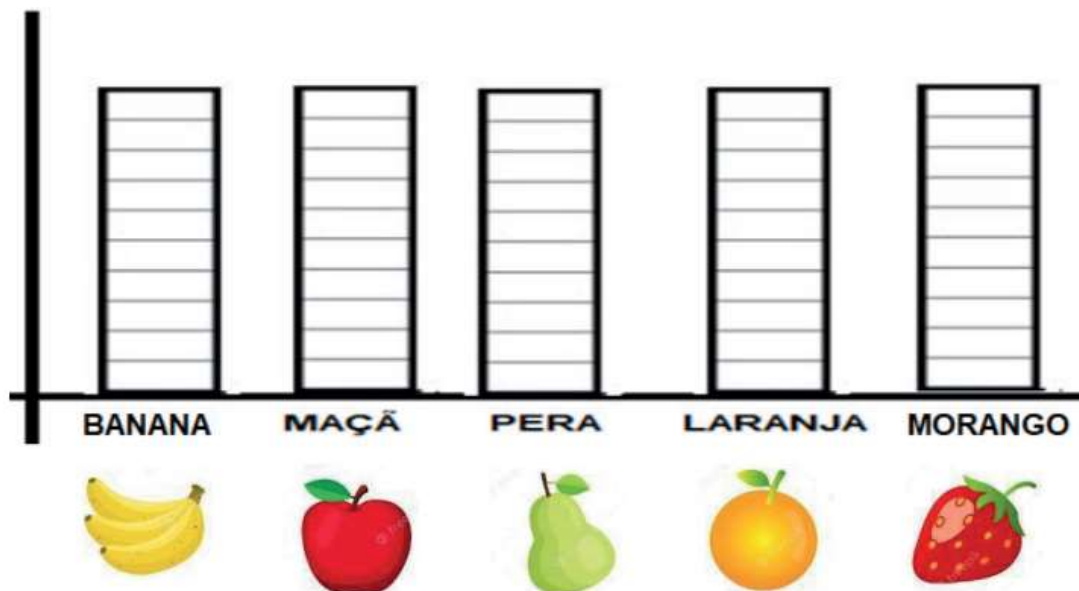
	PERA	5 KG
	LARANJA	6 KG
	MORANGO	10 KG

Imagem disponível em: <https://br.freepik.com/vetores-gratis/conjunto-isolado-de-frutas>.



3 - Resolva os desafios.

A) Carla precisa de 2 quilogramas de farinha de trigo para fazer uma receita de pão. Se ela for fazer 4 receitas de pão, quantos quilos de farinha ela vai precisar?

Desenho.	Operação.
Resposta:	
<hr style="border: 0; border-top: 1px solid black; margin-top: 10px;"/>	

4 -Vamos pensar?

A) Juliana vai fazer uma receita de um doce chamado arroz doce. A sua mãe disse que seria necessário um pacote de arroz de 3 Kg. Mas Juliana decidiu fazer duas receitas. Quantos quilos de arroz ela vai precisar?

B) O pacote de arroz custa 12 reais, comprando os dois pacotes de arroz para fazer as duas receitas de arroz doce, quanto Juliana vai pagar?

Desenho.

Operação.

Resposta:
