
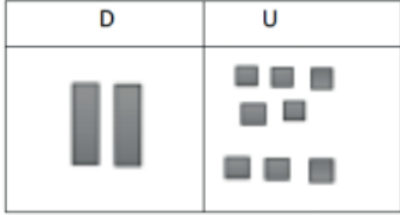
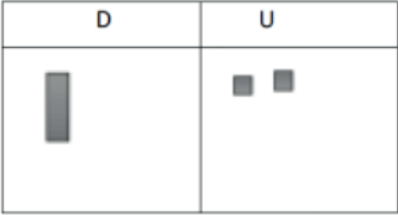
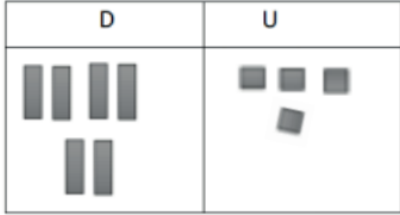

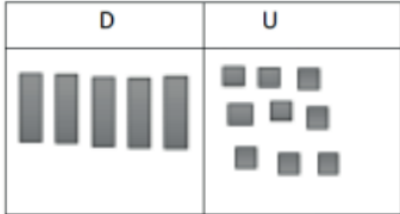


PET 4 – 1º ANO – 5ª SEMANA
COMPONENTE CURRICULAR: MATEMÁTICA

1 - REPRESENTAR AS QUANTIDADES NO QVL. O 1º EU JÁ FIZ.

<p>A) 45</p> 	<p>D) 28</p> 
<p>B) 12</p> 	<p>E) 64</p> 
<p>C) 32</p> 	<p>F) 59</p> 

2 - VAMOS DECOMPOR OS NÚMEROS? SIGA O MODELO.

95- 9 DEZENAS E 5 UNIDADES.

24- **2 DEZENAS E 4 UNIDADES.**

13- **1 DEZENA E 3 UNIDADES.**

67- **6 DEZENAS E 7 UNIDADES.**

46- **4 DEZENAS E 6 UNIDADES.**

50- **5 DEZENAS.**

38- **3 DEZENAS E 8 UNIDADES.**

3 - COMPLETE COMO NO MODELO:

1 DEZENA E 4 UNIDADES: $10 + 4 = 14$

A) 1 DEZENA E 6 UNIDADES: $10 + 6 = 16$ _____

B) 1 DEZENA E 4 UNIDADES: $10 + 4 = 14$ _____

C) 1 DEZENA E 8 UNIDADES: $10 + 8 = 18$ _____

D) 1 DEZENA E 5 UNIDADES: $10 + 5 = 15$ _____

E) 1 DEZENA E 1 UNIDADES: $10 + 1 = 11$ _____

F) 1 DEZENA E 9 UNIDADES: $10 + 9 = 19$ _____

G) 1 DEZENA: 10 _____

H) 1 DEZENA E 7 UNIDADES: $10 + 7 = 17$ _____

I) 1 DEZENA E 3 UNIDADES: $10 + 3 = 13$ _____

J) 2 DEZENAS: 20 _____