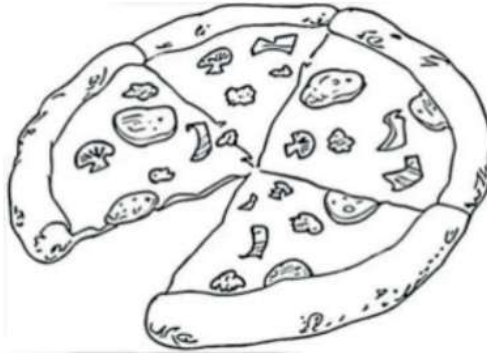





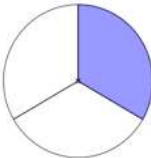
Correção PET 4 – 4º ano – 3ª Semana
Componente Curricular: Matemática

1 – Observe a pizza e responda:



- Em quantos pedaços esta pizza foi cortada? 5
- Qual é a fração que representa o pedaço que foi comido? 1/5
- Qual é a fração que representa o que sobrou da pizza? 4/5

2 – Represente com desenhos, as frações abaixo:

$\frac{3}{4}$	
$\frac{2}{8}$	
$\frac{5}{6}$	
$\frac{1}{3}$	

Atividades adaptadas de: <<https://acessaber.com.br/atividades/atividade-de-matematica-fracoes-4o-ano/>>. Acesso em: 20 jun. 2021.

3 - Complete o quadro abaixo conforme o exemplo:

A	B	C	D	E
Figura	Partes pintadas	Total das partes	Fração	como se lê
A	1	2	$\frac{1}{2}$	um meio
B	4	8	$\frac{4}{8}$	Quatro Oitavos
C	2	4	$\frac{2}{4}$	Dois quartos
D	2	2	$\frac{2}{2}$	Dois meios
E	1	6	$\frac{1}{6}$	Um sexto

4 -Pinte as frações:

DOIS QUINTOS	TRÊS NONOS	UM MEIO
UM TERÇO	TRÊS QUARTOS	TRÊS SÉTIMOS
SETE DOZE AVOS	CINCO NONOS	DOIS TERÇOS

Atividades adaptadas de: <https://www.soescola.com/2017/11/atividades-com-fracoes-4-ano.html/atividades-com-fracoes-4-ano-7>
Acesso em 20 de junho de 2021.