

MATEMÁTICA 5ª SEMANA

TEMA: DECOMPOR NÚMERO DE ATÉ DUAS ORDENS - PARTE 2

CARO (A) ESTUDANTE, NESTA SEMANA VOCÊ CONTINUARÁ A APRENDER A DECOMPOR E COMPREENDER SOBRE A DECOMPOSIÇÃO DOS NÚMEROS.







BREVE APRESENTAÇÃO:

COMPOR E DECOMPOR NÚMEROS DE ATÉ DUAS ORDENS POR MEIO DE ADIÇÕES EXIGE CONHECER A SEQUÊNCIA NUMÉRICA ESCRITA E FALADA COM NÚMEROS MAIORES DO QUE 10, BEM COMO COMPREENDER QUE UM NÚMERO PODE SER ESCRITO COMO SOMA DE OUTROS NÚMEROS.

PARA SABER MAIS: PARA SABER MAIS ACESSE O VÍDEO "DECOMPOSIÇÃO DOS NÚMEROS (PARTE 1)". Disponível em: <https://youtu.be/tOSACoGF06U>. Acesso em: 23 jul. 2021.

ATIVIDADES

1 - REPRESENTA AS QUANTIDADES NO QVL. O 1º EU JÁ FIZ.

A) 45 <table border="1" data-bbox="268 1032 671 1249"><thead><tr><th>D</th><th>U</th></tr></thead><tbody><tr><td></td><td></td></tr></tbody></table>	D	U			D) 28 <table border="1" data-bbox="914 1037 1342 1263"><thead><tr><th>D</th><th>U</th></tr></thead><tbody><tr><td></td><td></td></tr></tbody></table>	D	U		
D	U								
									
D	U								
B) 12 <table border="1" data-bbox="255 1377 681 1606"><thead><tr><th>D</th><th>U</th></tr></thead><tbody><tr><td></td><td></td></tr></tbody></table>	D	U			E) 64 <table border="1" data-bbox="914 1377 1342 1606"><thead><tr><th>D</th><th>U</th></tr></thead><tbody><tr><td></td><td></td></tr></tbody></table>	D	U		
D	U								
D	U								
C) 32 <table border="1" data-bbox="255 1720 681 1948"><thead><tr><th>D</th><th>U</th></tr></thead><tbody><tr><td></td><td></td></tr></tbody></table>	D	U			F) 59 <table border="1" data-bbox="914 1720 1342 1948"><thead><tr><th>D</th><th>U</th></tr></thead><tbody><tr><td></td><td></td></tr></tbody></table>	D	U		
D	U								
D	U								

2 - VAMOS DECOMPOR OS NÚMEROS? SIGA O MODELO.

95- 9 DEZENAS E 5 UNIDADES.

24- _____

13- _____

67- _____

46- _____

50- _____

38- _____

3 - COMPLETE COMO NO MODELO:

1 DEZENA E 4 UNIDADES: $10 + 4 = 14$

A) 1 DEZENA E 6 UNIDADES: _____

B) 1 DEZENA E 4 UNIDADES: _____

C) 1 DEZENA E 8 UNIDADES: _____

D) 1 DEZENA E 5 UNIDADES: _____

E) 1 DEZENA E 1 UNIDADES: _____

F) 1 DEZENA E 9 UNIDADES: _____

G) 1 DEZENA: _____

H) 1 DEZENA E 7 UNIDADES: _____

I) 1 DEZENA E 3 UNIDADES: _____

J) 2 DEZENAS: _____