

CIÊNCIAS 3ª SEMANA

TEMA: ESTAÇÕES DO ANO

CARO (A) ESTUDANTE, NESTA SEMANA NAS NOSSAS ATIVIDADES, FALAREMOS SOBRE AS ESTAÇÕES DO ANO E O PERÍODO EM QUE OCORRE CADA UMA.

APRESENTAÇÃO:

SABEMOS QUE DURANTE O ANO PERCORREMOS POR QUATRO ESTAÇÕES DIFERENTES. VAMOS FALAR UM POUCO DE CADA ESTAÇÃO E EM QUAL PERÍODO ELAS OCORREM.

OUTONO - DE 21 DE MARÇO A 21 DE JUNHO. OS DIAS FICAM MAIS CURTOS E MAIS FRESCOS. OS JARDINS E PARQUES FICAM COBERTOS DE FOLHAS DE TODOS OS TAMANHOS E CORES.

INVERNO - DE 21 DE JUNHO A 23 DE SETEMBRO. O INVERNO É A ESTAÇÃO MAIS FRIA DO ANO. OS DIAS SÃO CURTOS E POR ISSO ESCURECE MAIS CEDO. NO SUL DO BRASIL É COMUM VER A NEVE CAIR, COBRINDO O CHÃO E AS PLANTAS.

PRIMAVERA - DE 23 DE SETEMBRO A 21 DE DEZEMBRO. É A ESTAÇÃO MAIS FLORIDA DO ANO. COM O FIM DO INVERNO, OS DIAS VOLTAM A SER MAIS LONGOS E QUENTES.

VERÃO - DE 21 DE DEZEMBRO A 21 DE MARÇO. A ESTAÇÃO MAIS QUENTE DO ANO, MUITO CALOR E DIAS BEM LONGOS. AS TEMPERATURAS SÃO BEM ALTAS. NESTE PERÍODO A TERRA RECEBE MAIS CHUVA.

PARA SABER MAIS: PARA SABER MAIS UM POUCO QUE TAL ASSISTIR AO VÍDEO: "APRENDA TODAS AS ESTAÇÕES DO ANO // CONTOTOYS EDUCACIONAL". Disponível em: <https://www.youtube.com/watch?v=NJEZr6zcXns>. Acesso em 13 jun. 2021.

ATIVIDADES

1-OBSERVE AS IMAGENS ABAIXO E ESCREVA O NOME DAS ESTAÇÕES CORRESPONDENTE:

PRIMAVERA



VERÃO



OUTONO




INVERNO



Disponível em : <https://i.pinimg.com/originals/1f/95/1b/1f951bb493c18adcdf9909caec66ba2d.png>. Acesso em: 19 jul. 2021.


2 - EM QUAL DAS ESTAÇÕES ABAIXO NÓS ESTAMOS? PINTE A CENA CORRETA:



PRIMAVERA



VERÃO




OUTONO



INVERNO

Disponível em: <https://i.pinimg.com/originals/e7/37/b6/e737b60aac57926f340560a890aeeca6.jpg>. Acesso em: 19 jul, 2021.

3 - CIRCULE AS ROUPAS APROPRIADAS PARA O VERÃO:



4 - AGORA REPRESENTE ATRAVÉS DE UM DESENHO QUAL É A SUA ESTAÇÃO PREFERIDA:

A large, empty rectangular box with a thin black border, intended for the student to draw their favorite season.