

MATEMÁTICA 2ª SEMANA

TEMA: COMPOSIÇÃO DE NÚMEROS DE DUAS ORDENS - PARTE 2

CARO (A) ESTUDANTE, NESTA SEMANA CONTINUAREMOS A APRENDER A COMPOR, ESTUDAR E COMPREENDER SOBRE A FORMAÇÃO DOS NÚMEROS.

BREVE APRESENTAÇÃO:

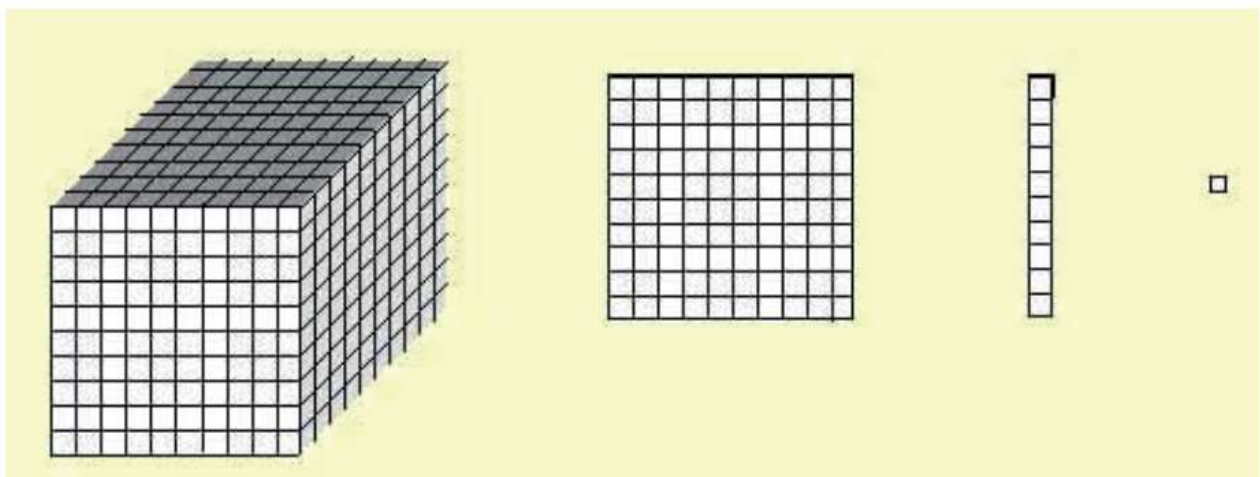
MATERIAL DOURADO: O CONJUNTO DE CUBOS, BARRAS E PLACAS SERVE PARA QUE CRIANÇAS NO INÍCIO DA ESCOLARIZAÇÃO SE APROPRIEM DO SISTEMA DE NUMERAÇÃO, OU SEJA, COMPREENDAM A ORGANIZAÇÃO DOS NÚMEROS. A PRINCIPAL SEMELHANÇA ENTRE ELE E O SISTEMA DECIMAL UTILIZADO POR NÓS É A ORGANIZAÇÃO EM BASE 10: ASSIM COMO 10 UNIDADES FORMAM UMA DEZENA, 10 CUBOS PEQUENOS SÃO EQUIVALENTES A UMA BARRINHA, 10 BARRINHAS (DEZENAS) EQUIVALEM A UMA PLACA (CENTENA) E 10 PLACAS A UM CUBO GRANDE (MILHAR).

1 CUBINHO REPRESENTA 1 UNIDADE;

1 BARRA EQUIVALE A 10 CUBINHOS EQUIVALEM (1 DEZENA OU 10 UNIDADES);

1 PLACA EQUIVALE A 10 BARRAS OU 100 CUBINHOS (1 CENTENA, 10 DEZENAS OU 100 UNIDADES);

1 CUBO EQUIVALE A 10 PLACAS 1000 OU 100 BARRAS OU 1000 CUBINHOS (1 UNIDADE DE MILHAR, 10 CENTENAS, 100 DEZENAS OU 1000 UNIDADES)



Disponível em: <<https://novaescola.org.br/conteudo/8598/cartao-amarelo-para-o-material-dourado>>. Acesso em: 14 jul. 2021.

PARA SABER MAIS:

ACESSE O VÍDEO "COMO USAR O MATERIAL DOURADO" Disponível em: <<https://youtu.be/OreArn3IU4Y>>. Acesso em: 14 jul. 2021.

ATIVIDADES

1 - QUANTOS CUBINHOS EU PRECISO PARA FORMAR UMA BARRA?


2 - QUANTAS BARRAS EU PRECISO PARA FORMAR UMA PLACA?

3 - QUANTOS CUBINHOS EU PRECISO PARA FORMAR UMA PLACA?


4. **OBSERVE** AS PEÇAS DO MATERIAL DOURADO E COMPLETE.




10 (DEZ) UNIDADES EQUIVALEM A _____ DEZENA.




_____ (VINTE) UNIDADES EQUIVALEM A _____ DEZENAS.




_____ (TRINTA) UNIDADES EQUIVALEM A _____ DEZENAS.




_____ (QUARENTA) UNIDADES EQUIVALEM A _____ DEZENAS.




_____ (CINQUENTA) UNIDADES EQUIVALEM A _____ DEZENAS.




_____ (SESSENTA) UNIDADES EQUIVALEM A _____ DEZENAS.



_____ (SETENTA) UNIDADES EQUIVALEM A _____ DEZENAS.



_____ (OITENTA) UNIDADES EQUIVALEM A _____ DEZENAS.

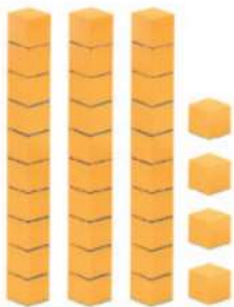


_____ (NOVENTA) UNIDADES EQUIVALEM A _____ DEZENAS.

5 - SABENDO QUE UMA BARRINHA VALE 10 UNIDADES DE CUBINHOS OU 1 DEZENA. ESCREVA O NÚMERO DE ACORDO COM A REPRESENTAÇÃO DE QUANTIDADE .



6 - OBSERVE AS IMAGENS E PREENCHA OS ESPAÇOS CORRETAMENTE:



A) _____ DEZENAS E _____ UNIDADES.

$$\text{-----} + \text{-----} = \text{-----}$$