

CIÊNCIAS 2ª SEMANA

TEMA: SUCESSÃO DE DIAS E NOITES - PARTE 2

CARO (A) ESTUDANTE, NESTA SEMANA NAS NOSSAS ATIVIDADES, FALAREMOS UM POUCO MAIS SOBRE A SUCESSÃO DE DIAS E NOITES.

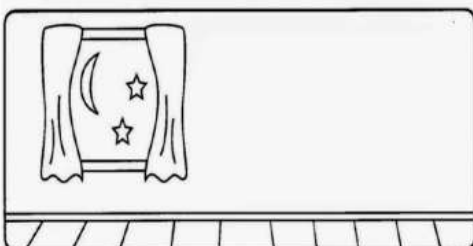

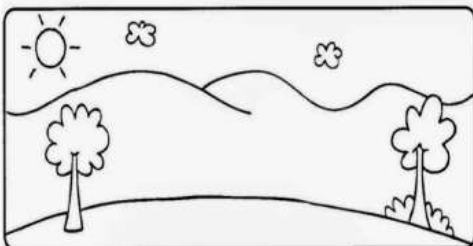
APRESENTAÇÃO:

É IMPORTANTE SABER QUE NÓS TEMOS O DIA E A NOITE, PORQUE A TERRA GIRA. A TERRA GIRA LENTAMENTE O TEMPO TODO, MAS NÓS NÃO SENTIMOS QUALQUER MOVIMENTO, PORQUE O MOVIMENTO É UNIFORME E COM A MESMA VELOCIDADE. A TERRA LEVA UM DIA INTEIRO (24 HORAS) PARA FAZER UMA VOLTA COMPLETA. O PLANETA TERRA ESTÁ SEMPRE A GIRAR COMO UM PIÃO, MAS MUITO MAIS DEVAGAR DO QUE ESTE. DEMORA UM DIA PARA DAR UMA VOLTA COMPLETA. E É NESSA VOLTA QUE SURGE O DIA E A NOITE. O DIA DURA O TEMPO EM QUE O SOL ESTIVER APARECENDO NO CÉU. A NOITE É O NOME DO PERÍODO EM QUE O SOL SUMIU DO CÉU.

PARA SABER MAIS: PARA SABER MAIS UM POUCO QUE TAL ASSISTIR AO VÍDEO: "Dia e Noite", DISPONÍVEL EM: <https://www.youtube.com/watch?v=ZxFIN-yHES0>. Acesso em: 13 jun. 2021.

ATIVIDADES

1 - OBSERVE BEM AS IMAGENS ABAIXO E LIGUE CORRETAMENTE DE ACORDO COM AS ATIVIDADES QUE FAZEMOS DURANTE O DIA E À NOITE:



Disponível em: <https://i.pinimg.com/originals/5e/90/73/5e9073f561998ab44d3c1e53720d3521.png>. Acesso em: 13 jun. 2021.

2 - OS SERES HUMANOS ORGANIZAM SUAS ATIVIDADES DE ACORDO COM OS PERÍODOS DO DIA. OBSERVE AS ILUSTRAÇÕES ABAIXO E DEPOIS MARQUE COM UM X A OPÇÃO CORRETA:



Disponível em: <https://i.pinimg.com/564x/e0/cc/26/e0cc26afd606d33d4f70e5f837910449.jpg> . Acesso em: 13 junho 2021.

A- NO PERÍODO DA MANHÃ O MENINO:

() ACORDOU. () BRINCOU. () TOMOU BANHO.

B- NO PERÍODO DA TARDE, O MENINO:

() ESTUDOU. () ACORDOU. () ALMOÇOU.

C- NO PERÍODO DA NOITE, O MENINO:

() ALMOÇOU. () FOI DORMIR. () TOMOU BANHO.

3 - AGORA VOCÊ IRÁ FALAR UM POUCO DA SUA ROTINA.

DESENHE UM  PARA ATIVIDADE REALIZADA DURANTE O DIA.

DESENHE UMA  PARA ATIVIDADE REALIZADA À NOITE.

ALMOÇO BRINCO TOMO BANHO

ESTUDO DURMO TOMO CAFÉ