

MATEMÁTICA 1ª SEMANA

TEMA: COMPOSIÇÃO DE NÚMEROS DE DUAS ORDENS - PARTE 1

CARO (A) ESTUDANTE, NESTA SEMANA VOCÊ VAI APRENDER A COMPOR, ESTUDAR E COMPREENDER SOBRE A FORMAÇÃO DOS NÚMEROS.

BREVE APRESENTAÇÃO:

COMPOR NÚMEROS NADA MAIS É DO QUE FORMAR NÚMEROS, ORGANIZAR OS ALGARISMOS EM ORDENS. CADA UM DESSES ALGARISMOS REPRESENTA DETERMINADA QUANTIDADE 1,2,3 ETC. ESSAS QUANTIDADES SÃO DENOMINADAS DE UNIDADES.

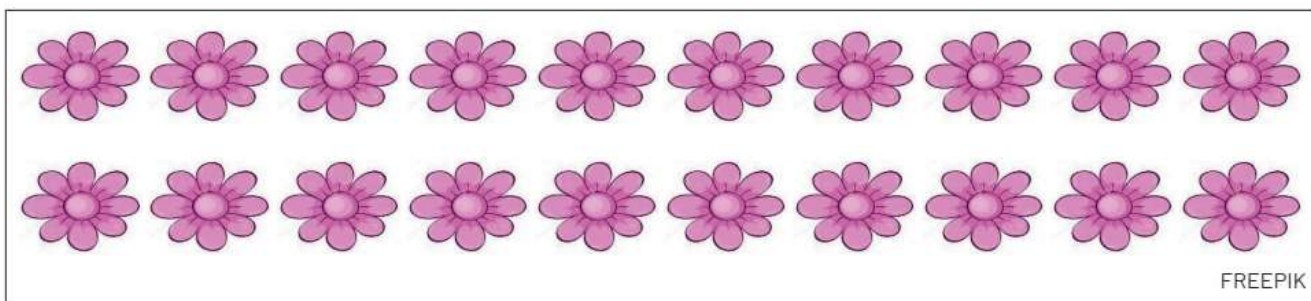
UMA DAS PRINCIPAIS CARACTERÍSTICAS DESSE SISTEMA É QUE, A CADA 10 UNIDADES, FORMAMOS 1 DEZENA (10 UNIDADES).

PARA SABER MAIS:

VAMOS CONHECER MAIS? ACESSE AO VÍDEO "COMPOSIÇÃO E DECOMPOSIÇÃO DE NÚMEROS ATÉ 2 ORDENS", Disponível em: <<https://youtu.be/lisia-9Rb-kk>>. Acesso em: 20 jul. 2021.

ATIVIDADES

1 - CIRCULE AS FLORES FORMANDO GRUPOS DE 10 ELEMENTOS. EM SEGUIDA RESPONDA ÀS QUESTÕES ABAIXO.




A) QUANTAS DEZENAS? _____

B) QUANTAS UNIDADES RESTARAM? _____

_____ + _____ = _____

2 - A PROFESSORA KAMILA CONFECCIONOU DIVERSOS CORAÇÕES PARA PREMIAR OS ALUNOS QUE REALIZAM AS TAREFAS SOLICITADAS EM SALA DE AULA. REÚNAM EM GRUPOS DE 10 CORAÇÕES E DEPOIS VERIFIQUE QUANTAS UNIDADES SOBRARAM.



A) QUANTOS GRUPOS DE 10 CORAÇÕES FORAM FORMADOS? _____

B) QUANTAS UNIDADES DE CORAÇÕES SOBRARAM? _____

C) QUANTOS CORAÇÕES A PROFESSORA KAMILA CONFECCIONOU? _____

3 - ANA ESTÁ ARRUMANDO OS LÁPIS DE COR QUE ELA TEM.



<https://br.freepik.com/fotos-vetores-gratis/>

A) PRIMEIRO ELA AGRUPOU ALGUNS LÁPIS EM UMA CAIXA. CONTE OS LÁPIS E COMPLETE A FRASE.

NA CAIXA, CABEM _____ LÁPIS OU 1 DEZENA DE LÁPIS.



<https://br.freepik.com/fotos-vetores-gratis/>

B) DEPOIS, ELA JUNTOU MAIS UM LÁPIS. COM QUANTOS LÁPIS ELA FICOU? COMPLETE AS FRASES.

AGORA, ANA TEM 1 DEZENA DE LÁPIS MAIS _____ LÁPIS, OU SEJA, 11(ONZE) LÁPIS.

10 LÁPIS MAIS _____ LÁPIS SÃO 11 LÁPIS.

_____ +1= _____



C) AGORA ELA JUNTOU O ÚLTIMO LÁPIS. QUANTOS LÁPIS ANA TEM? COMPLETE AS FRASES.


AGORA, ANA TEM 1 DEZENA DE LÁPIS MAIS _____ LÁPIS, OU SEJA, 12 (DOZE) LÁPIS.

10 LÁPIS MAIS _____ LÁPIS SÃO 12 LÁPIS.

<https://br.freepik.com/fotos-vetores-gratis/>

$$_____ + 2 = _____$$

4 - AGORA VOCÊ QUE IRÁ ORGANIZAR OS LÁPIS. CONTE E COMPLETE AS FRASES.



<https://br.freepik.com/fotos-vetores-gratis/>

VOCÊ TEM _____ DEZENA DE LÁPIS MAIS _____ LÁPIS, OU SEJA _____ (_____) LÁPIS.

_____ LÁPIS MAIS _____ LÁPIS SÃO _____ LÁPIS.

$$_____ + _____ = _____$$