

PET 4 – 1º ANO – 3ª SEMANA
COMPONENTE CURRICULAR: MATEMÁTICA

1- OBSERVE AS IMAGENS E DEPOIS REGISTRE NO QUADRO VALOR DE LUGAR A QUANTIDADE DE PALITOS. CADA GRUPO É FORMADO POR 10 PALITOS.

A)

D	U
2	0



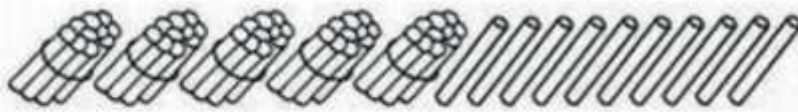
QUANTOS GRUPOS DE PALITOS? 1

QUANTOS PALITOS SOLTOS? 10

QUANTOS PALITOS NO TOTAL? 20

B)

D	U
6	0



QUANTOS PALITOS SOLTOS? 10

QUANTOS GRUPOS DE PALITOS? 5

QUANTOS PALITOS NO TOTAL? 60

C)

D	U
3	6



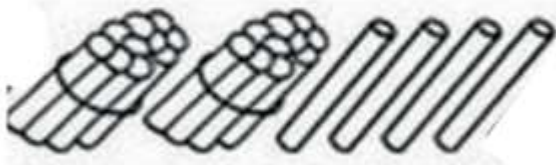
QUANTOS PALITOS SOLTOS? 6

QUANTOS GRUPOS DE PALITOS? 3

QUANTOS PALITOS NO TOTAL? 36

D)

D	U
2	4



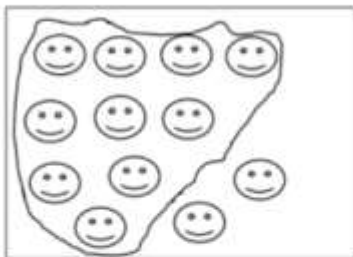
QUANTOS PALITOS SOLTOS? 4

QUANTOS GRUPOS DE PALITOS? 2

QUANTOS PALITOS NO TOTAL? 24

2 - LIMITE UMA DEZENA EM CADA QUADRO E CONTE OS ELEMENTOS QUE SOBRARAM. DEPOIS, ESCREVA OS NUMERAIS. VEJA O MODELO.


A)



D	U
1	2

12

B)



D	U
1	0

10

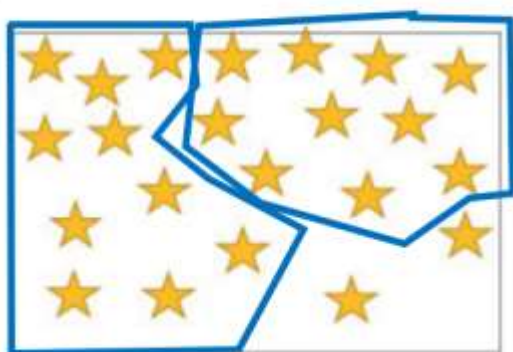
C)



D	U
1	9

19

D)



D	U
2	2

22