

CORREÇÃO PET 4 – 1º ANO – 2ª SEMANA
COMPONENTE CURRICULAR: MATEMÁTICA

1 - QUANTOS CUBINHOS EU PRECISO PARA FORMAR UMA BARRA?

10 CUBINHOS.

2 - QUANTAS BARRAS EU PRECISO PARA FORMAR UMA PLACA?

10 PLACAS.


3 - QUANTOS CUBINHOS EU PRECISO PARA FORMAR UMA PLACA?

100 CUBINHOS.


4. **OBSERVE** AS PEÇAS DO MATERIAL DOURADO E COMPLETE.




10 (DEZ) UNIDADES EQUIVALEM A **1** _____ DEZENA.




20 _____ (VINTE) UNIDADES EQUIVALEM A **2** _____ DEZENAS.




30 _____ (TRINTA) UNIDADES EQUIVALEM A **3** _____ DEZENAS.




40 _____ (QUARENTA) UNIDADES EQUIVALEM A **4** _____ DEZENAS.




50 (CINQUENTA) UNIDADES EQUIVALEM A **5** DEZENAS.




60 (SESSENTA) UNIDADES EQUIVALEM A **6** DEZENAS.



70 (SETENTA) UNIDADES EQUIVALEM A **7** DEZENAS.



80 (OITENTA) UNIDADES EQUIVALEM A **8** DEZENAS.




90 (NOVENTA) UNIDADES EQUIVALEM A **9** DEZENAS.


5 - SABENDO QUE UMA BARRINHA VALE 10 UNIDADES DE CUBINHOS OU 1 DEZENA, ESCREVA O NÚMERO DE ACORDO COM A REPRESENTAÇÃO DE QUANTIDADE .




13



30



15



14

6 - OBSERVE AS IMAGENS E PREENCHA OS ESPAÇOS CORRETAMENTE:



A) 3 DEZENAS E 4 UNIDADES.

$$\underline{30} + \underline{4} = \underline{34}$$