

PET 3 – 2º ano – 6ª Semana
Componente Curricular: Geografia

1 – Fique parado em algum ponto da sua casa e observe cada detalhe. Agora vamos fazer o registro da observação.

Resposta pessoal. Respostas baseadas no desenho abaixo.

A) O que tinha à sua frente?

O caderno e o lápis

B) Você vai escrever agora o que tinha atrás de você.

A cama e a prateleira de livros.

C) E do lado direito, o que você observou?

A luminária.





D) Relate o que tinha do lado esquerdo.

Os livros.

2 – Agora faça o desenho das informações da Atividade 1.



3 – Observe a imagem abaixo e responda.

| | | | | |
|----------|---|---|--|---|
| E | | | |  |
| D |  | | | |
| C | |  | | |
| B | | |  | |
| A | 1 | 2 | 3 | 4 |

Disponível em: <<https://novaescola.org.br/plano-de-aula/5376/orientacao-espacial-a-localizacao-a-partir-de-pistas>>. Acesso em: 14 maio 2021.

a) Qual figura está localizada na linha B, coluna 3. Está próxima do castelo e distante do prédio. A figura é O campo de futebol.

b) A figura que está localizada na última linha e coluna é um prédio.

c) Para encontrar esta figura saia do campo de futebol, ande duas casas para cima, pare, vire à esquerda e ande duas casas. A figura é o castelo.