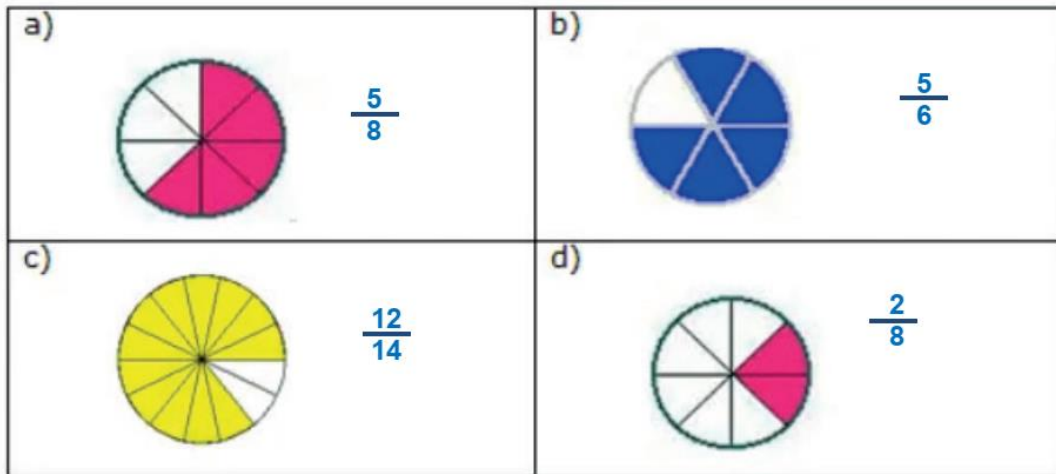


**PET 3 – 5º ano – 3ª Semana**  
**Componente Curricular: Matemática**

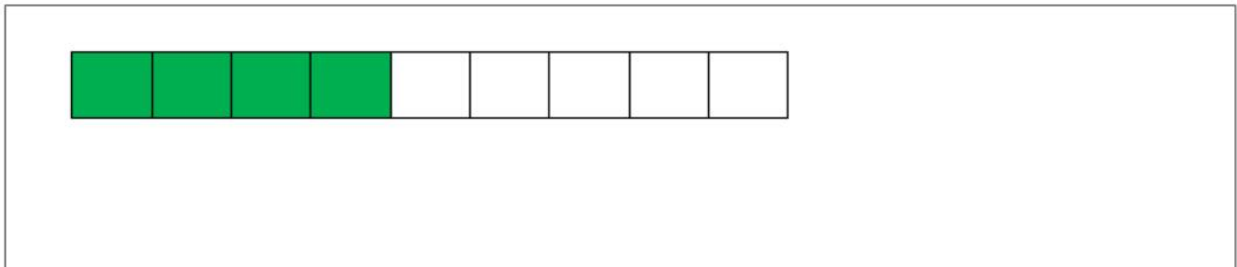
**1** – De acordo com a parte pintada de cada imagem, escreva a fração que representa:



Disponível em: <<https://acessaber.com.br/atividades/atividade-de-matematica-fracoes-5o-ano/>>. Acesso em: 11 jun. 2021. (Adaptado)

**2** – Represente as frações com desenhos:

A)  $\frac{4}{9}$



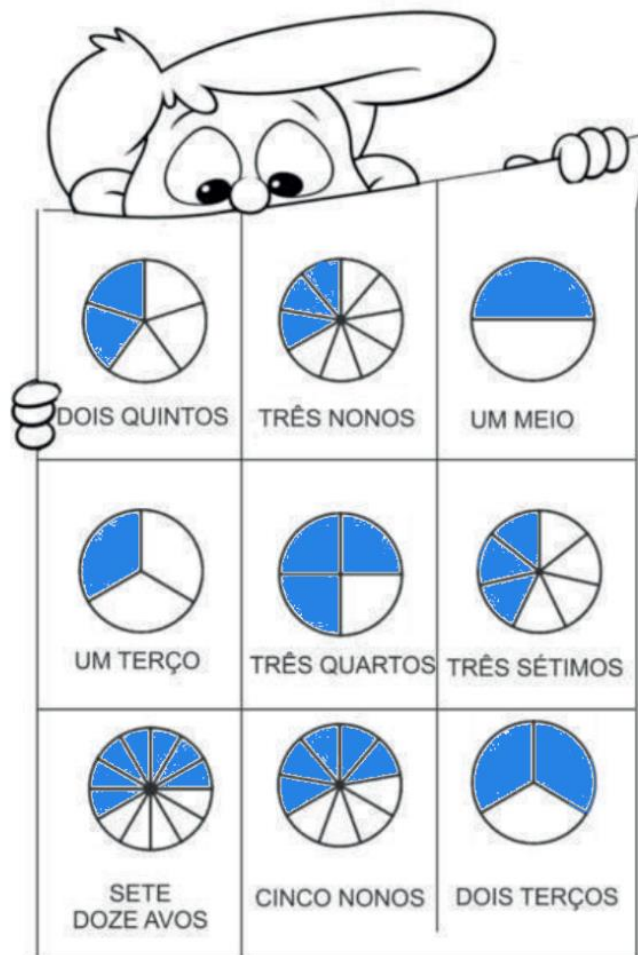
B)  $\frac{3}{5}$



3 - Que frações estão representadas nos desenhos abaixo? Escreva em algarismo e por extenso.



4 - Faça o colorido das frações de acordo com os desenhos:



Disponíveis em: <<https://lagoaformosa.mg.gov.br/wp-content/uploads/2020/05/5o-ano-Atividades-da-19a-SEMANA.pdf>>; <<https://escolakids.uol.com.br/matematica/o-que-e-fracao>>. Acesso em: 18 de Maio de 2021.

5 - Coloque as seguintes frações na reta numérica.

$\frac{1}{4}$	$\frac{1}{3}$	$\frac{2}{4}$	$\frac{3}{3}$	$\frac{3}{4}$
---------------	---------------	---------------	---------------	---------------

