


PET 3 – 2º ano – 5ª Semana
Componente Curricular: Matemática

1- Observe a metragem de cada animal.



RESPONDA:

a) Qual é o maior animal ? **Girafa.**_____

b) Qual é o menor animal ? **Leão.**_____

c) Você possui algum animal de estimação? Qual o tamanho (altura) dele em centímetros ou metros? **Resposta pessoal.**_____

Disponível em: <<http://aquarelamatematica.com.br/livro2.php>>. Acesso em: 04 de abr. 2021.

2 – João Carlos possui 20 centímetros a mais que seu irmão Pedro. Sabendo que Pedro mede 72 centímetros, qual é a medida de João Carlos?

Operação:

$$\begin{array}{r} 72 \\ - 20 \\ \hline 52 \end{array}$$

Resposta:

A medida de João Carlos é 52 cm._____

3 – Você possui o RG?



RG é um documento muito importante de identificação das pessoas. Ele possui foto e dados da pessoa. Hoje no Brasil é possível ter RG em qualquer idade e este documento é válido em todo o país.

Pegue seu RG ou caso você ainda não tenha, peça o de sua Mãe ou de seu Pai para fazer a atividade.

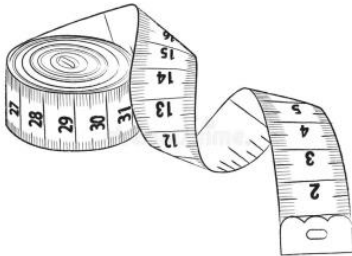
A) Use a régua e meça o comprimento dos lados da foto que aparecem no RG e complete a frase:

_____ **4** centímetros por _____ **3** centímetros.

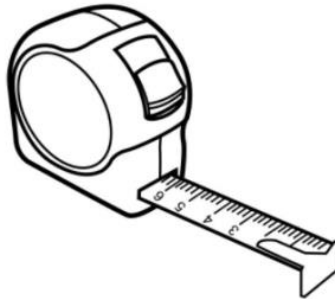
MUNHOZ, Aida Ferreira; NAZARETH, Helenauda; TOLEDO, Marília. **Fazer, compreender e criar em Matemática**. 2º ano do Ensino Fundamental. 5 ed. São Paulo: IBEP, 2014.

4 – Faça o desenho dos objetos de medição escritos abaixo.

a) Fita métrica



b) Trena



c) Régua

