


PET 3 – 2º ano – 2ª Semana
Componente Curricular: Matemática


1 – Vamos observar a régua. A régua é um objeto de medição.



a) Esta régua possui quantos centímetros? () 10 (**x**) 20 () 100

b) Escreva o nome de um objeto que você poderia medir com esta régua.
Caderno, lápis, folha, etc.

c) Pegue sua régua e observe. Agora meça com a régua os objetos indicados para descobrir o comprimento de cada um. Escreva o valor que você encontrou.



Lápis de escrever: **Resposta pessoal. De acordo com seus materiais**

Disponível em: <https://image.freepik.com/vetores-gratis/lapis-de-desenho-animado-escrever-desenho-de-escola_24877-17363.jpg>. Acesso em: 10 de maio de 2021



Tesoura: **Resposta pessoal. De acordo com seus materiais**

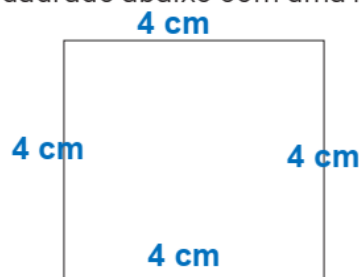
Disponível em: <https://image.freepik.com/free-vector/set-colorful-isolated-scissors-flat-illustration_188118-174.jpg>. Acesso em: 10 de maio de 2021.



Borracha: **Resposta pessoal. De acordo com seus materiais**

Disponível em: <https://image.freepik.com/vetores-gratis/suprimentos-de-volta-a-escola_23-2147519361.jpg>. Acesso em: 10 de maio de 2021

2 – Vamos medir os lados do quadrado abaixo com uma régua.



Qual é o valor de cada lado? 4 cm

Os valores são iguais? Sim, todos os lados possuem o mesmo tamanho.

Você encontrou nos objetos que mediu algum que teve resultado igual ao quadrado?

() Sim () Não **Resposta pessoal.**

3 – Vamos pensar?

NESTA AULA, VOCÊ TRABALHOU MEDIDAS DE COMPRIMENTO EXPRESSAS EM UNIDADES PADRONIZADAS. (**METRO, CENTÍMETROS, MILÍMETROS**)

MEDIR É COMPARAR UTILIZANDO UMA UNIDADE COMO REFERÊNCIA.
PARA COMPARAR AS MEDIDAS PROCURAMOS DEIXÁ-LAS NA MESMA UNIDADE DE MEDIDA.

METRO = M
CENTÍMETRO = CM
MILÍMETRO = MM

PARA REALIZAR AS COMPARAÇÕES FOI NECESSÁRIO LEMBRAR QUE:

1 METRO = 100 CENTÍMETROS = 1.000 MILÍMETROS



nova
escola

Disponível em: <<https://nova-escola-producao.s3.amazonaws.com/wmqxNUPSbRt5aYqsAGQrWT3W8XEcknt8AsbXuyMEbhpsby3hvNqxpCFvZYv/encerramento>>. Acesso em: 10 de maio de 2021.

Um metro possui quantos centímetros? 100 cm

Um metro possui quantos milímetros? 1.000 mm

4 – Eduardo foi até a casa de sua avó levar algumas quitandas que sua mãe pediu. A casa da avó de Eduardo fica a três quarteirões da casa dele e cada quarteirão mede 30 metros. Quantos metros Eduardo percorreu até chegar à casa de sua avó?

3 quarteirões →

30 METROS

30 METROS

30 METROS

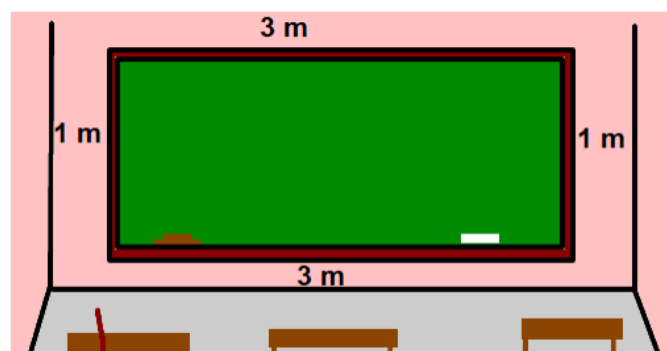
Operação:

$$30 + 30 + 30 = 90$$

Resposta:

Ele percorreu 90 metros.

5 – A turma do 2º ano está medindo o quadro negro da sala de aula. Veja o desenho com as medidas do quadro da sala de aula.



Agora faça a soma dos lados e descubra a metragem da "borda" do quadro.

Operação:

$$1 + 1 + 3 + 3 = 8$$

Resposta:

A borda do quadro mede 8 metros.