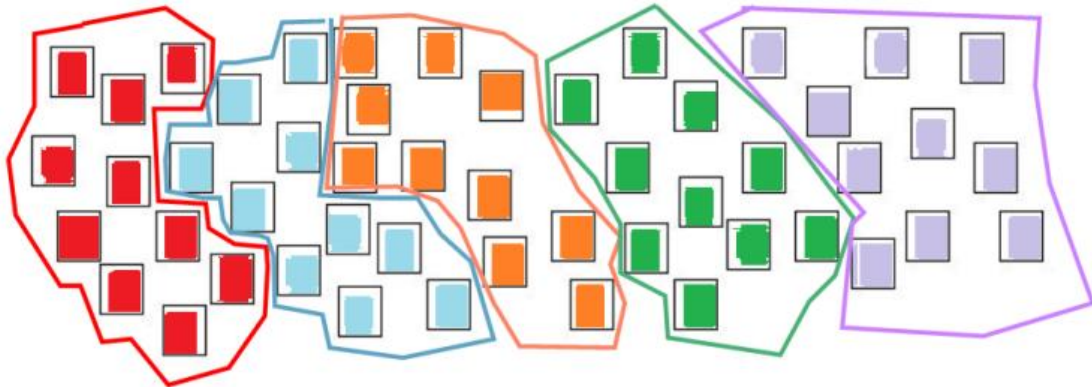


PET 7 – 1º ano – 2ª Semana
Componente Curricular: Matemática

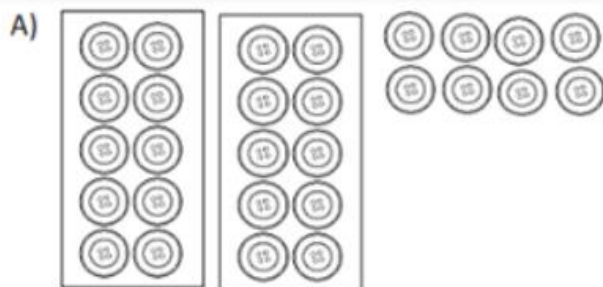
1- AGRUPE OS QUADRADINHOS DE 10 EM 10 PARA FORMAR DEZENAS E REGISTRE O RESULTADO NA TABELA A SEGUIR.




GRUPOS DE QUADRADINHOS	QUADRADINHOS QUE SOBRARAM
5 GRUPOS	0 (ZERO).

AO TODO HÁ 50 QUADRADINHOS.

2 -DESCUBRA QUANTOS GRUPOS DE 10 BOTÕES HÁ EM CADA ITEM E QUANTAS UNIDADES SOBRARAM. DEPOIS COMPLETE OS QUADROS.



GRUPOS DE 10	SOBRARAM
2	8



GRUPOS DE 10	SOBRARAM
3	2

c)

GRUPOS DE 10	SOBRARAM
4	5

3 - PINTE SOMENTE AS FICHAS CUJAS ADIÇÕES TÊM RESULTADO IGUAL A 50.

10+10+10

10+10+10 + 10 + 10 + 10

10+10+10 + 10 + 10

20 + 10 + 10

20+10+10 + 10

10+10+10 + 10

4 - OBSERVE AS 5 CARTELAS ABAIXO, CADA UMA CONTÉM 10 BOTÕES. MOSTRE UMA MANEIRA DE GUARDAR OS BOTÕES EM DUAS CESTAS FICANDO A MESMA QUANTIDADE DE BOTÕES EM CADA CESTA. ESCREVA NO QUADRADINHO A QUANTIDADE DE BOTÕES QUE FICARÁ EM CADA UMA.

25

25

Imagens disponíveis em: <<https://pixabay.com/pt/>>.- Acesso em: 26 set. 2020


5 - DESAFIO:

DESCUBRA O NÚMERO ESCONDIDO PELO CARTÃO: 10

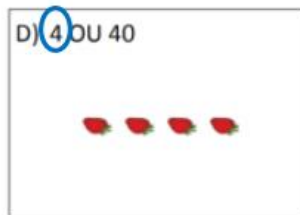
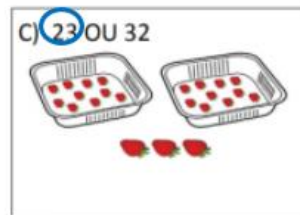
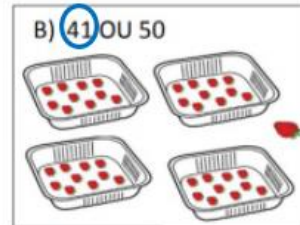
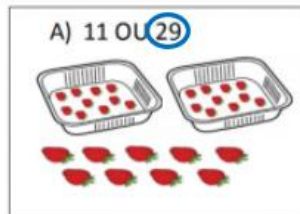
$40 + \boxed{10} = 50$

6 - EM CADA BANDEJA HÁ 1 DEZENA DE MORANGOS.

1 DEZENA DE MORANGOS OU
10 MORANGOS.



RISQUE O NÚMERO QUE CORRESPONDE AO TOTAL DE MORANGOS EM CADA QUADRO.



Imagens disponíveis em: < <https://br.pinterest.com/> >. Acesso em: 26 set. 2020