


**PET 5 – 2º ano – 3ª Semana**  
**Componente Curricular: Matemática**

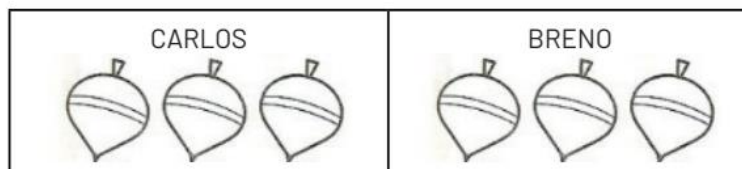
**1. OBSERVE O EXEMPLO:**

CARLOS TEM 6 PIÕES. DEU **METADE** PARA SEU IRMÃO BRENO. COM QUANTOS PIÕES CADA UM FICOU? **CADA UM FICOU COM 3 PIÕES.**



Disponível em: <https://www.educacaoetransformacao.com.br/wp-content/uploads/2017/08/atividades-de-matematica-para-trabalhar-dezena-unidade-2.jpg>


Acesso em: 09 set 2020



**2. SÉRGIO E SANDRA DIVIDIRAM AS 8 MAÇÃS QUE COLHERAM EM 2 GRUPOS IGUAIS. CADA CRIANÇA FICOU COM METADE DAS 8 MAÇÃS.**



Imagens disponíveis em: <https://pixabay.com/pt/> - Acesso em 26/08/2020.



- A) COM QUANTAS MAÇÃS CADA CRIANÇA FICOU?   **8**
- B) QUAL OPERAÇÃO PODEMOS FAZER PARA CALCULAR COM QUANTAS MAÇÃS CADA UM FICOU?
- (    ) SOMA +
- (    ) SUBTRAÇÃO -
- (    ) MULTIPLICAÇÃO X
- ( **X** ) DIVISÃO ÷

**IMPORTANTE:**

SEPARAR EM **2 GRUPOS IGUAIS** É O MESMO QUE  
**SEPARAR A METADE** PARA CADA GRUPO.

**3.** OS 12 ADESIVOS A SEGUIR SERÃO DISTRIBUÍDOS IGUALMENTE ENTRE 3 CRIANÇAS.  
CADA CRIANÇA FICARÁ COM A **TERÇA PARTE** DA QUANTIDADE DE ADESIVOS.



Imagens disponíveis em: <https://pixabay.com/pt/> - Acesso em 26/08/2020.

DISTRIBUA OS ADESIVOS ENTRE AS 3 CRIANÇAS (FAÇA O DESENHO):

CRIANÇA 1	CRIANÇA 2	CRIANÇA 3

A) COM QUANTOS ADESIVOS FICARÁ CADA CRIANÇA? 4

B) QUAL A OPERAÇÃO PODEMOS FAZER PARA DESCOBRIR COM QUANTOS  
ADESIVOS FICARÁ CADA CRIANÇA?

( ) SOMA +

( ) SUBTRAÇÃO -



( ) MULTIPLICAÇÃO X

( **X** ) DIVISÃO ÷

**IMPORTANTE:**

SEPARAR EM **3 GRUPOS** É O MESMO QUE **SEPARAR A TERÇA PARTE** PARA CADA GRUPO.



**4. EM CADA ITEM, PINTE O QUE SE PEDE E DEPOIS COMPLETE AS LACUNAS.**

<p>A) METADE DO NÚMERO DE BOLAS.</p> 	<p>A METADE DE 10 É <u>5</u>.</p> <p><math>10 \div 2 = \underline{5}</math>.</p>
<p>B) A TERÇA PARTE DO NÚMERO DE PICOLÉS.</p> 	<p>A TERÇA PARTE DE 12 É <u>4</u>.</p> <p><math>12 \div 3 = \underline{4}</math>.</p>

Imagens disponíveis em: <https://pixabay.com/pt/> - Acesso em 26/08/2020.


**5. RESOLVA OS DESAFIOS:**

A) ERNESTO DEU **METADE** DOS SEUS 16 ADESIVOS PARA SEU PRIMO. COM QUANTOS ADESIVOS ELE FICOU?

	
<p><math>16:2=8</math></p>	

RESPOSTA: ELE FICOU COM 8 ADESIVOS.

B) MARCOS GANHOU 20 BONECOS PARA SUA COLEÇÃO E DEU A **METADE** DELES PARA RAIMUNDO. QUANTOS BONECOS RAIMUNDO GANHOU?



$$20 : 2 = 10$$

RESPOSTA: RAIMUNDO GANHOU 10 BONECOS.


C) JULIANA DEU A **TERÇA PARTE** DE SUAS 9 PRESILHAS PARA SUA PRIMA CARINA. QUANTAS PRESILHAS CARINA GANHOU DE JULIANA?



$$9 : 3 = 3$$

RESPOSTA: CARINA GANHOU 3 PRESILHAS.

D) NA FRUTEIRA HAVIA 6 PERAS, MAS A **TERÇA PARTE** ESTAVA VERDE. QUANTAS ERAM AS PERAS VERDES?



RESPOSTA: ERAM VERDES 2 PERAS.