




PET IV – 4º ANO – 1ª SEMANA
COMPONENTE CURRICULAR: Matemática

- 1 – Leia o texto e depois registre no primeiro relógio o horário que o palhaço vai dormir e no segundo relógio o horário que ele acorda.



- 2 – Patrícia, pela manhã, fez um bolo e o colocou para assar. Quando o bolo estava assado o relógio estava marcando quantas horas?

O relógio estava marcando 11 horas e 35 minutos.



- O bolo gastou 30 minutos para assar. Que horas Patrícia colocou o bolo para assar?

Patrícia colocou o bolo para assar as 11h e 05 min.



- 3 – Fernanda foi ao supermercado. Para ir e voltar ela gastou 1h20min. Quantos minutos durou a ida de Fernanda ao supermercado?

A ida ao supermercado de Fernanda durou 80 minutos.