

**PET IV – 3º ANO – 1ª SEMANA**  
**COMPONENTE CURRICULAR: Matemática**

1 – Resolva as situações-problemas:



Oi! Eu sou Gustavo. No mês que vem é meu aniversário de 8 anos e minha mãe vai fazer uma grande festa para comemorarmos.¶

- a) A mesa do bolo será decorada com 3 bonecos de cada um dos 6 heróis do filme: *Os poderosos do universo*. Quantos bonecos ao todo ficarão sobre a mesa?

Faça os cálculos aqui:  
 **$3 \times 6 = 18$**

Resposta: \_\_\_\_\_

**Ficarão sobre a mesa 18 bonecos.**

- b) Serão alugadas 8 mesas para a festa. Para cada mesa há 4 cadeiras. Quantas cadeiras serão alugadas?

Faça os cálculos aqui:  
 **$4 \times 8 = 32$**

Resposta: \_\_\_\_\_

**Serão alugadas 32 cadeiras.**




- c) A mãe de Gustavo comprou 5 pacotes de pirulitos. Se em cada pacote há 10 pirulitos, quantos pirulitos ela comprou?

Faça os cálculos aqui:  
 **$5 \times 10 = 50$**

Resposta: \_\_\_\_\_

**Ela comprou 50 pirulitos.**

2 – Calcule quantos dedinhos levantados há, ao todo, em cada linha da tabela.

	$\underline{3} + \underline{3} = \underline{6} \text{ ou}$ $\underline{2} \times \underline{3} = \underline{6}$
	$\underline{4} + \underline{4} + \underline{4} = \underline{12} \text{ ou}$ $\underline{3} \times \underline{4} = \underline{12}$
	$\underline{2} + \underline{2} + \underline{2} + \underline{2} = \underline{8}$ <p>ou <math display="block">\underline{4} \times \underline{2} = \underline{8}</math></p>

Imagens disponíveis em: <https://pixabay.com/pt/vectors/m%C3%A3o-contagem-dedos-uma-dois-tr%C3%AAs-162127/>. Acesso em: 21/07/2020.

3 – Continue resolvendo os desafios:

- a) Na festa de Gustavo, em cada um dos 4 cantos do salão de festas haverá 6 cata-ventos, cada um com a cor de um dos heróis. Quantos cata-ventos enfeitarão o salão?

Faça os cálculos aqui:

$$4 \times 6 = 24$$

Resposta: \_\_\_\_\_

**Enfeitarão o salão 24 cata-ventos.**

- b) Quando Gustavo fizer 8 anos, ele passará a ganhar de seu pai 10 reais por semana. Quanto ele ganhará em 4 semanas?

Faça os cálculos aqui:

$$4 \times 10 = 40$$

Resposta: \_\_\_\_\_

**Ele ganhará 40 reais.**

- c) Dona Vânia comprou 5 embalagens de canetas com imagens de "Os Poderosos do Universo" para dar como lembrancinha no final da festa. Em cada embalagem há 10 canetas. Quantas canetas ela comprou?

Faça os cálculos aqui:

$$5 \times 10 = 50$$

Resposta: \_\_\_\_\_

**Ela comprou 50 canetas.**