



PET 4 – 1º ano – 3ª Semana
Componente Curricular: Matemática


1 — OBSERVE AS FIGURAS GEOMÉTRICAS PLANAS QUE VOCÊ IRÁ ESTUDAR HOJE:




CÍRCULO



QUADRADO



TRIÂNGULO






RETÂNGULO

- A) PINTE O CÍRCULO DE VERMELHO.
 B) PINTE O QUADRADO DE AZUL.
 C) PINTE O TRIÂNGULO DE VERDE.
 D) PINTE O RETÂNGULO DE AMARELO.
- 2 — LISTE ALGUNS OBJETOS ENCONTRADOS EM SUA CASA QUE SE PARECE COM ALGUMA DAS FORMAS GEOMÉTRICAS PLANAS (QUADRADO, TRIÂNGULO, RETÂNGULO E CÍRCULO) E REGISTRE SUAS CARACTERÍSTICAS, OU SEJA, ESCREVA COMO ELE É. **RESPOSTA PESSOAL. SUGESTÕES:**

OBJETO	CARACTERÍSTICAS
BISCOITO ÁGUA E SAL	POSSUI 4 LADOS.
FATIA DE PIZZA	POSSUI 3 LADOS.
FORMA DE BOLO	POSSUI 4 LADOS, DOIS DELES SÃO MAIORES.
RELÓGIO	É FEITO DE UMA LINHA CURVA.

- 3 — REPRESENTA POR MEIO DE DESENHO 4 OBJETOS DO SEU DIA A DIA QUE SE PAREÇAM COM AS FIGURAS PLANAS QUE VOCÊ ESTUDOU HOJE. UM OBJETO PARA CADA FIGURA. **RESPOSTA PESSOAL. SUGESTÕES:**

<p>CÍRCULO</p> 	<p>QUADRADO</p> 
<p>TRIÂNGULO</p> 	<p>RETÂNGULO</p> 

4 — QUAL DESSES OBJETOS MAIS SE PARECE COM A FORMA DE UM CÍRCULO?
REGISTRE O NOME NO RETÂNGULO.



A TELA DO
COMPUTADOR



A FOLHA DO
CADERNO

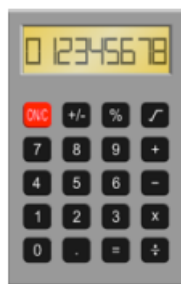


A LENTE DA LUPA

A LENTE DA LUPA.

Imagens disponíveis em: <https://pixabay.com/pt/>. Acesso em: 14/07/2020.

5 — QUAL DESSAS IMAGENS CONTÉM MAIS CARACTERÍSTICAS DE UM QUADRADO?
REGISTRE O NOME NO RETÂNGULO.



O CALENDÁRIO.

Imagens disponíveis em: <https://pixabay.com/pt/>. Acesso em: 14/07/2020.

6 — ENTÃO, DEPOIS DE TUDO QUE VOCÊ ESTUDOU E APRENDEU NAS ATIVIDADES
ACIMA, ESCREVA O QUE VOCÊ ENTENDE POR FIGURAS GEOMÉTRICAS PLANAS.
RESPOSTA PESSOAL.
