

PET III – 5º Ano – 3ª Semana
Componente curricular: Geografia


- 1– Observe o mapa abaixo. Ele apresenta a distribuição da população no território brasileiro . **Observe as figuras de bonecos no mapa e responda.**




Fonte: IBGE Disponível em: <https://biblioteca.ibge.gov.br/visualizacao/livros/liv82413.pdf>.
Acesso em: 25/06/2020.

- a) A população está distribuída de forma irregular, não é mesmo? Algumas regiões têm mais habitantes. Qual é a região do Brasil que apresenta o maior número de habitantes? **A região Sudeste.**
- b) Quais estados que compõem a região menos habitada do nosso país? Registre no espaço abaixo. (Se não souber, retorne à atividade 3 da semana anterior. Há uma tabela com a relação).

Amapá, Acre, Amazonas, Pará, Rondônia, Roraima e Tocantins.

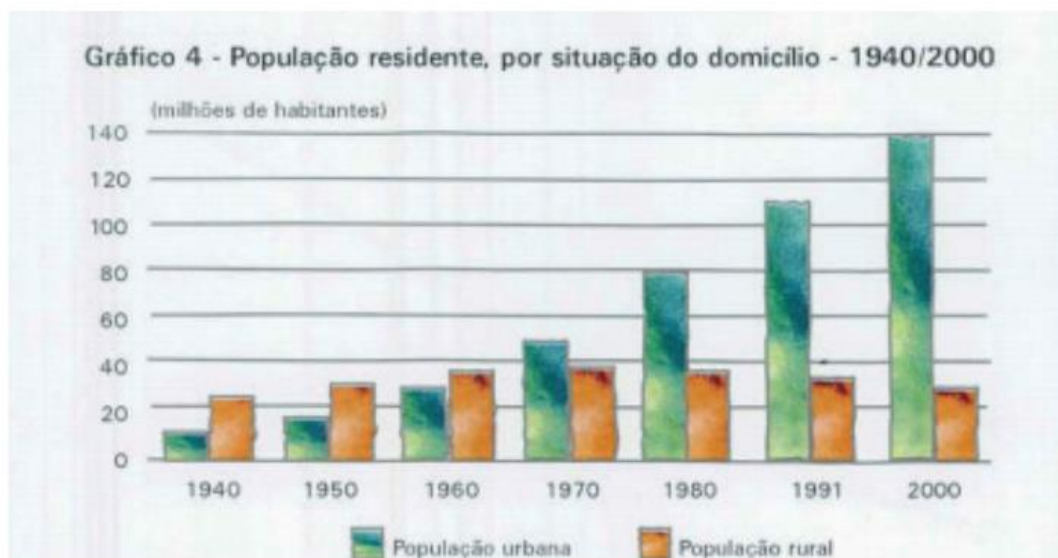
- 2 – No mapa, cada boneco representa 4% da população brasileira. Qual o percentual de população de cada região?  = 4%

Região	Quantidade 	% da população
NORTE	1	4%
NORDESTE	7	28%
CENTRO-OESTE	2	8%
SUL	4	16%
SUDESTE	11	44%

Na sua opinião, por que a região SUDESTE concentra a maioria da população?

Resposta pessoal. Sugestão: É a região mais industrializada, concentra grande quantidade de oferta de empregos.

- 3 – Além da distribuição entre as diversas regiões do nosso país, há também a distribuição entre campo e cidade, ou seja, zona rural e zona urbana. Veja o gráfico abaixo:



Fonte: IBGE. Disponível em: <https://biblioteca.ibge.gov.br/visualizacao/livros/liv82413.pdf>. Acesso em: 25/06/2020.

- a) O que você percebeu ao analisar o gráfico? O que aconteceu com a população urbana entre 1940 e 2000?

A população urbana aumento, enquanto a população rural diminuiu.

b) Em que ano a população urbana passou a ser maior que a população rural?

Em 1970.

c) Na sua opinião, por que isso aconteceu?

Resposta pessoal. Sugestão: A busca por emprego, melhor qualidade de vida, etc.
