




**PET III – 3º ano - 2ª Semana**  
**Componente Curricular: Geografia**

1– Marque o quadrinho que corresponde a paisagem:

<p>A</p>  <p><a href="https://pixabay.com/pt/photos/paisagem-edificios-montagem-988987">https://pixabay.com/pt/photos/paisagem-edificios-montagem-988987</a>. Acesso em: 04/06/2020.</p>	<p>( ) Paisagem Natural ( <b>X</b> ) Paisagem Humanizada</p>
<p>B</p>  <p><a href="https://www.flickr.com/photos/mturdestinos/40808261592/in/album-72157691500798962">https://www.flickr.com/photos/mturdestinos/40808261592/in/album-72157691500798962</a>. Acesso em: 04/06/2020.</p>	<p>( <b>X</b> ) Paisagem Natural ( ) Paisagem Humanizada</p>

2– Observe a imagem e responda:



<https://pt.wikipedia.org/wiki/>. Acesso em: 04/06/2020.

a) É uma paisagem natural ou humanizada? Descreva que características você percebe na imagem e que justificam sua resposta.

**É uma paisagem humanizada, pois possui casas, ruas e meios de transportes. Há também alguns elementos naturais.**

b) Os elementos naturais que compõe a paisagem são aqueles formados pela natureza. Os elementos humanizados são aqueles construídos pelos seres humanos.

Registre na tabela a seguir esses elementos, separando-os em NATURAIS ou HUMANIZADOS:

Naturais	Humanizados
Rios	Casa
Árvores	Ruas
Montanhas	Lojas
	Escolas

Rios – Casa – Ruas – Árvores – Montanhas – Lojas – Escolas

**3 –** Desenhe no espaço abaixo uma paisagem natural. Não esqueça de colorir!

**Resposta pessoal do aluno.**