

PET III – 2º ano - 2ª Semana

Componente Curricular: Geografia

O bairro representa uma parte da cidade, formado de ruas, casas, lojas e praças. Todos os bairros têm nome e uma história.

Você conhece a história do seu bairro? Converse com adultos da sua casa sobre a história do bairro e pergunte se ele sempre foi como nos dias de hoje.

Resposta pessoal.


1- Observe as figuras abaixo:

Figura A



Fonte: https://3.bp.blogspot.com/-omrKz0oUV4k/U_vBtpDTwVI/AAAAAAAAARec/DXCuqFUfPIw/w1200-h630-p-k-no-nu/Des%252Bcolorir%252Bcasas%252Bcidade.bmp. Acesso em: 26/05/2020 9h.

Figura B



Fonte: <https://i.pinimg.com/564x/b1/dc/71/b1dc717266376c076527d105da7487c8.jpg>. Acesso em: 26/05/2020.

Marque um **X** no que você percebe na **figura A**:

- | | |
|-----------------------|-----------------------------|
| a) () Prédios | d) (X) Ruas calmas |
| b) () Carros | e) () Rua agitadas |
| c) (X) Casas | f) () Lojas |

Marque um **X** no que você percebe na **figura B**:

- | | |
|-------------------------|-------------------------------|
| a) (X) Prédios | d) () Ruas calmas |
| b) (X) Carros | e) (X) Ruas agitadas |
| c) () Casas | f) () Lojas |

2 – Com o passar dos anos novas casas vão sendo construídas nos bairros.

O seu bairro possui **muitas** ou **poucas** casas?

Resposta pessoal.

As ruas do seu bairro têm semáforo ou outros sinais de trânsito?

Resposta pessoal.

Antes da pandemia da COVID-19 as ruas do seu bairro eram **calmas** ou **agitadas** ?

Resposta pessoal.

3 – Leia o trecho da cantiga popular “Se essa rua fosse minha” e responda a questão abaixo:

SE ESSA RUA FOSSE MINHA

SE ESSA RUA
SE ESSA RUA FOSSE MINHA
EU MANDAVA
EU MANDAVA LADRILHAR
COM PEDRINHAS
COM PEDRINHAS DE BRILHANTE
PARA O MEU
PARA O MEU AMOR PASSAR















O que você mandaria fazer de diferente na rua em que fica a sua casa?

Resposta pessoal.












ASFALTO – LUZ – ÁRVORE – CALÇADA
RUAS LARGAS – JARDINS – PARQUINHO

4 – Assim como as pessoas, os bairros também têm características diferentes. Vamos descobrir no enigma os diferentes tipos de bairros que podemos ter?

Use a legenda abaixo, como referência, e associe cada símbolo a uma letra.

A		C		D		E		I		M	
N		O		R		S		T		U	

BAIROS

Residenciais.

BAIRROS



Comerciais.

BAIRROS



Industriais.

SUA ESCOLA FICA NO MESMO BAIRRO ONDE VOCÊ MORA?
COMO É O BAIRRO DA SUA ESCOLA? ALÉM DA ESCOLA EXISTEM
MUITAS LOJAS OU MUITAS CASAS?

Resposta pessoal. Incentive a criança a identificar as características de seu bairro e do bairro da escola.