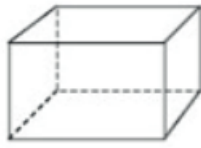


**PET III – 2º ano – 4ª Semana**  
**Componente curricular: Matemática**

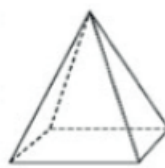
1 – Observe a base de cada forma geométrica abaixo. Contornando a base de cada uma, você irá descobrir como se encontra a planta baixa de uma figura.



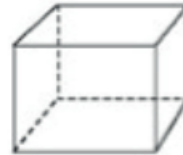
prisma



cilindro



pirâmide



cubo



cone

Agora desenhe a seguir, a planta baixa de cada uma.



Prisma



Cilindro



Cubo



Cone

2 – Veja a divisão dos cômodos desta casa.

- 2 quartos
- Cozinha
- Banheiro
- Sala
- Área de entrada



Consegue imaginar como é a sua casa por dentro? Faça uma lista dos cômodos que ela possui e a planta baixa da sua casa. Depois de pronta, pinte o seu quarto.

**Lista dos cômodos**

Resposta pessoal.

**Planta baixa**

Resposta pessoal.