










**PET III –2 ano - 2ª Semana**  
**Componente Curricular: Matemática**

1– Observe o mural de fotografias e leia as pistas. Depois complete-o com os nome que faltam.

 <b>Maria</b>	 Catarina	 Bia
 Lúcia	 <b>Lívia</b>	 <b>Ana</b>
 <b>Joana</b>	 Leila	 Marta

- 1ª pista: a fotografia de Lívia aparece entre as de Catarina e de Leila.
- 2ª pista: a fotografia de Leila está entre as de Joana e de Marta.
- 3ª pista: a fotografia de Maria está acima da fotografia de Lúcia.
- 4ª pista: a fotografia de Ana aparece abaixo da fotografia de Bia.

2– Felipe saiu do elevador de um prédio e viu a placa:

- ➡ Corredor **A**: salas 21 a 30
- ➡ Corredor **B**: salas 31 a 40
- ➡ Corredor **C**: salas 41 a 50

Complete as frases a seguir com as expressões “à sua direita”, “à sua esquerda” ou “em frente”.

- Para ir à sala 35 Felipe deve seguir **em frente**.
- Para ir à sala 24 Felipe deve seguir **à sua esquerda**.
- Para ir à sala 43 Felipe deve seguir **à sua direita**.