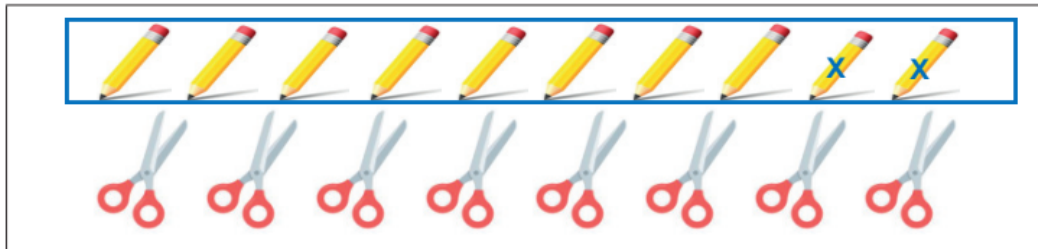


PET 1 – 1º ano – 2ª Semana
Componente Curricular: Matemática

1- MARIA TEM AS SEGUINTE COLEÇÕES:



Imagens disponíveis em: <https://img.freepik.com/vetores-gratis/design-do-lapis-da-escrita_1095-187.jpg?size=338&ext=jpg>
 <https://image.freepik.com/vetores-gratis/icone-de-oferta-de-escola-de-tesoura_24908-26931.jpg>. Acesso em: 15 fev. 2021.

- CIRCULE A COLEÇÃO QUE TEM MAIS OBJETOS.
- NA COLEÇÃO QUE VOCÊ CIRCULOU, QUANTOS OBJETOS TEM A MAIS? FAÇA UM X SOBRE ELES.

2- CONTE OS DESENHOS E CIRCULE O NÚMERO CORRESPONDENTE.

1 2 3 4 5 6	1 2 3 4 5 6	1 2 3 4 5 6
1 2 3 4 5 6	1 2 3 4 5 6	1 2 3 4 5 6

Imagens disponíveis em: <<https://image.freepik.com/vetores-gratis/>>. Acesso em: 15 fev. 2021.

3- O DESENHO ABAIXO ESTÁ MOSTRANDO A TURMA DA PROFESSORA CLÁUDIA.






Imagens disponíveis em: <https://image.freepik.com/vetores-gratis/menino-novo-engracado-e-menina-estudantes-vector-cartoon-isolado-personagens_1196-505.jpg>. Acesso em: 15 fev. 2021.

- NA TURMA DA PROFESSORA CLÁUDIA, TEM MAIS MENINOS (**X**) OU MENINAS () ?


4 -ESCREVA ABAIXO, O NUMERAL QUE CORRESPONDE A QUANTIDADE DE CADA FRUTA.



4	6	3	4	5
				

Imagens disponíveis em: <<https://image.freepik.com/vetores-gratis/>>. Acesso em: 15 fev. 2021.

5 -OBSERVE AS IMAGENS E RESPONDA:



QUANTOS ANIMAIS TÊM NO QUADRO? 18

QUANTOS SÃO GATOS? 6

QUANTOS SÃO GIRAFAS? 6

QUANTOS SÃO CACHORROS? 6