

PET Final Avaliativo – 2º ano
Componente Curricular: Geografia

QUESTÃO 1 - Leia o texto:

A rua do Pedro

A rua de Pedro no passado era calma, com poucos automóveis circulando.

Com o passar do tempo, houve o aumento do número de moradias e comércios, transformando a rua calma em uma rua movimentada. A rua ganhou asfalto e um sinal de trânsito, conhecido como semáforo. As ruas vão se modificando conforme o número de pessoas aumenta nas cidades.

As pessoas precisam ter próximo às suas casas comércio, escola, hospital, transporte e muitas outros equipamentos urbanos para facilitar suas vidas. O atendimento a essas necessidades vão transformando os lugares.

De acordo com o texto responda:

A) Qual o título da história? **A rua do Pedro** _____

B) Converse com seus familiares para descobrir as transformações que ocorreram na sua rua ao longo do tempo. Registre por meio de desenho.

Resposta pessoal.

QUESTÃO 2 - O bairro é um lugar muito importante, pois é nele que se encontra sua moradia.

Observe a imagem a seguir.



Disponível em: <<https://st.depositphotos.com/kids-playing.jpg>>. Acesso em: 06 nov. 2020.

A imagem que você observou representa um bairro. Marque as alternativas que explicam o que é bairro.

Bairro é uma parte da cidade.

Bairro é uma área retangular formadas por duas ruas.

Bairro é uma área formada por vários quarteirões, com residências, comércio, escolas, parques, praças e ruas.

QUESTÃO 3 - Os meios de transportes são classificados de acordo com a via por onde circulam.

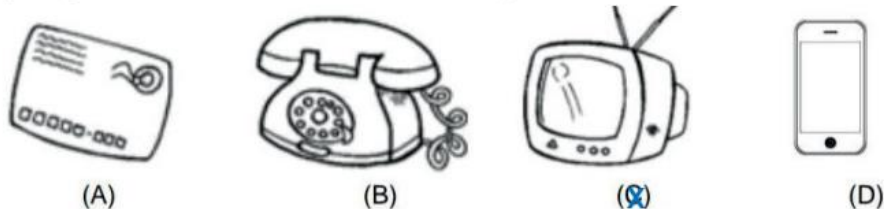
Ônibus, trens, motos e bicicletas são meios de transportes:

- A) Terrestres
- B) Aquáticos
- C) Aéreos

QUESTÃO 4 - Qual alternativa apresenta um meio de transporte aquático?

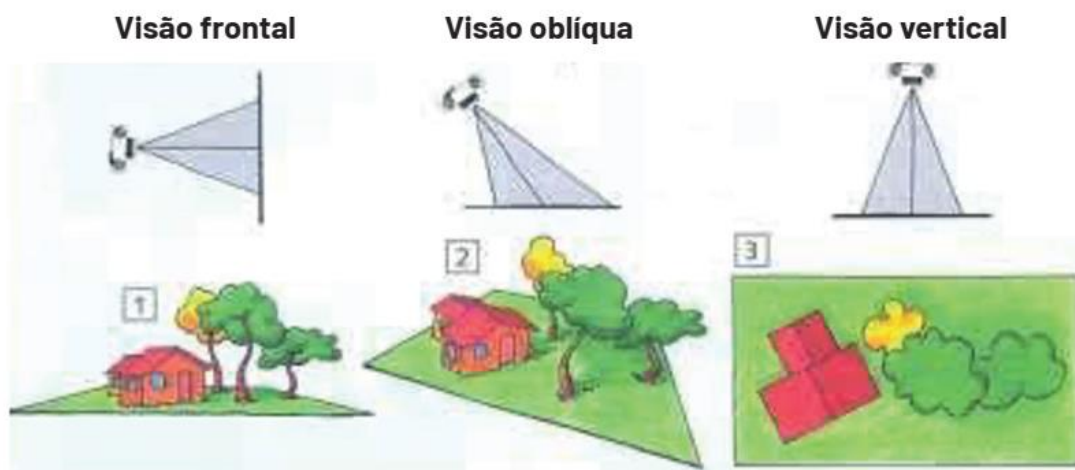
- A) Avião
- B) Carro
- C) Navio
- D) Moto

QUESTÃO 5 - Os meios de comunicação podem ser individuais ou coletivos. Marque a alternativa que apresenta um meio de comunicação coletivo:



Disponível em: <<https://soatividades.com/meio-comunicacao.png>>. Acesso em: 06 nov. 2020.

QUESTÃO 6 - As imagens aéreas são fotografias tiradas do alto, por um avião, drone ou helicóptero, por exemplo. Elas podem representar uma aérea em uma visão de **frontal**, **vertical** ou **oblíqua**.



Disponível em: <<https://i.ytimg.com/vi/SrzYkHiNv8E/hqdefault.jpg>>. Acesso em: 07 nov. 2020.

Observe cada imagem e marque com um X a visão que ela foi representada.



VISÃO VERTICAL

VISÃO OBLÍQUA



VISÃO VERTICAL

VISÃO OBLÍQUA



VISÃO VERTICAL

VISÃO OBLÍQUA



VISÃO VERTICAL

VISÃO OBLÍQUA

Disponível em: <<https://image.slidesharecdn.com/leiturainterpretao.jpg>>. Acesso em: 3 nov. 2020.

QUESTÃO 7 - Veja a legenda e numere os sofás de acordo com o ponto de vista em que foi observado.

(1) VISÃO OBLÍQUA

(2) VISÃO VERTICAL

(3) VISÃO DE FRENTE



3



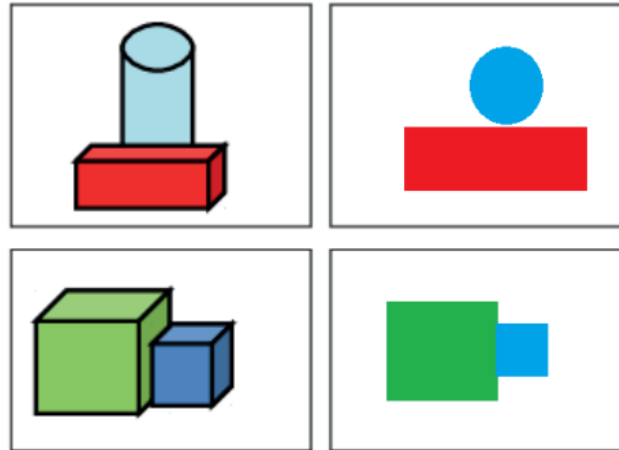
1



2

Disponível em: <<https://0.academia-photos.com/>>. Acesso em: 07 nov.. 2020.

QUESTÃO 8 - As figuras abaixo foram fotografadas na visão oblíqua. Desenhe as peças no quadro a seguir, à partir da fotografia na visão vertical.



Disponível em: <<https://0.academia-photos.com/>>. Acesso em: 07 nov. 2020.

AUTOAVALIAÇÃO

Agora é hora de você refletir sobre o que aprendeu ao longo do ano. Leia com atenção cada afirmativa e escolha a opção que melhor representa a sua compreensão de cada uma delas: **Resposta pessoal**.

O QUE APRENDI EM GEOGRAFIA?			
AFIRMATIVAS	SIM	EM PARTE	NÃO
COMPREENDO QUE AS PAISAGENS ESTÃO EM CONSTANTE TRANSFORMAÇÃO.			
COMPREENDO O BAIRRO COMO UM ESPAÇO QUE FORMA OS MUNICÍPIOS.			
RECONHEÇO DIFERENTES MEIOS DE TRANSPORTE UTILIZADOS NO MEU DIA A DIA.			
RECONHEÇO DIFERENTES MEIOS DE COMUNICAÇÃO E SOU CAPAZ DE CLASSIFICÁ-LOS EM INDIVIDUAIS E COLETIVOS.			
IDENTIFICO EM IMAGENS, EM QUAL VISÃO ELA FOI REPRESENTADA: OBLÍQUA, VERTICAL OU FRONTAL.			