


**PET 7 – 5º ano – 4ª Semana**  
**Componente Curricular: Matemática**

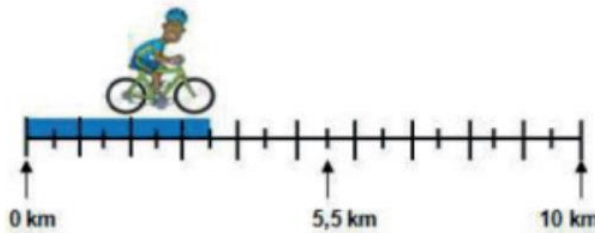
1 - Escreva em cada círculo o número que corresponde a cada seta.



2 - Desenhe uma reta numérica e coloque os numerais no lugar correto:



3 - Este ciclista percorreu o espaço mostrado abaixo. Qual foi a distância percorrida por ele?



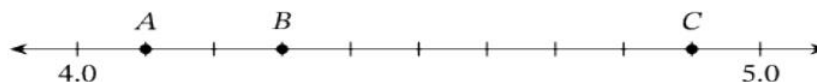
A distância percorrida é de 3,5 km.

4 - O número decimal marcado na reta numérica é:



2,3cm.

5 - Escreva os números decimais correspondentes aos pontos indicados pelas letras A, B e C na reta numérica a seguir.



A = 4,1      B = 4,3      C = 4,9

Atividades adaptadas de: <<https://studylibpt.com/doc/1438727/n%C3%BAmeros-inteiros-e-decimais--compara%C3%A7%C3%A3o-e-ordena%C3%A7%C3%A3o>>. Acesso em: 07 out. 2020