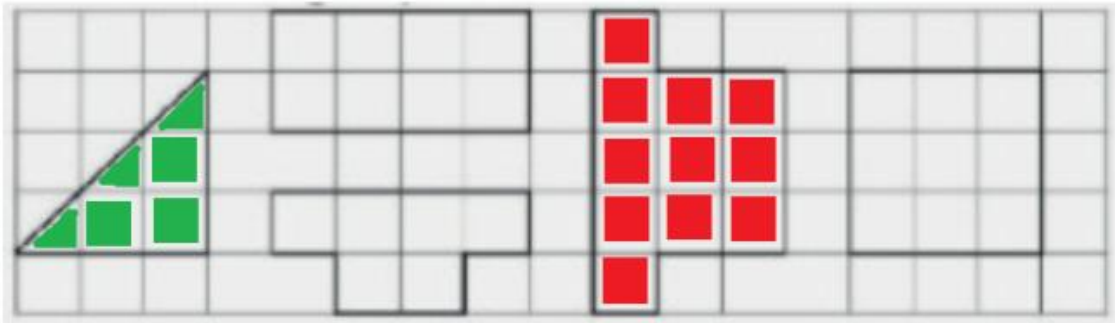


PET 7 – 4º ano – 3ª Semana
Componente Curricular: Matemática

1 – Pinte de vermelho a figura que tem maior área e de verde a figura que tem menor área.




2 – Na imagem acima, qual é o perímetro do quadrado e do retângulo?

Retângulo: 12 m.

Quadrado: 12 m.


A questão não apresenta a medida utilizada, optamos por utilizar o metro.

3 – O piso de uma sala está sendo coberto por cerâmicas quadradas. Já foram colocadas 7 cerâmicas como mostrado na figura abaixo. Quantas cerâmicas faltam para cobrir o piso?



Faltam 8 cerâmicas para cobrir o piso da sala.

4 – Utilizando como unidade de medida, o quadradinho da malha quadriculada. Calcule a área da palavra “PAZ” representada na imagem abaixo.



$$10+12+9=31$$

A palavra PAZ possui 31 quadradinhos de área.

Atividades adaptadas de: <<https://br.pinterest.com/pin/265923552983984666/Atividades>>. Acesso em: 12 out. 2020.