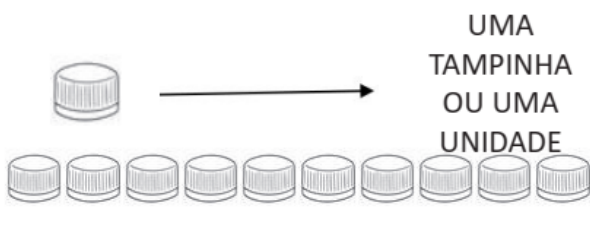


PET 7 – 1º ano – 1ª Semana
Componente Curricular: Matemática

1- OBSERVE COM ATENÇÃO!

SE ESTOU CONTANDO TAMPINHAS,
CADA TAMPINHA É O MESMO QUE



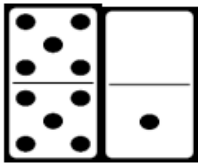
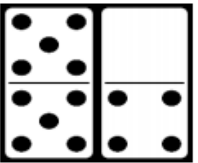

DEZ
TAMPINHAS
OU DEZ
UNIDADES

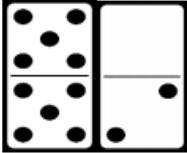


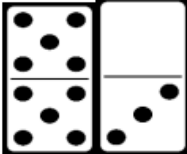


UMA DEZENA É O
MESMO QUE 10
UNIDADES.



Imagens disponíveis em: <<https://media.istockphoto.com/vectors/avid-reader-girl-vector-id466854335>>. Acesso em: 03 nov. 2020.

2 – RESOLVA AS CONTAS.

<p>A) </p> <p>$10 + 1 = \underline{11}$</p>	<p>B) </p> <p>$10 + 4 = \underline{14}$</p>	<p>C) </p> <p>$10 + 7 = \underline{17}$</p>
---	---	---

D)  $10 + 2 = \underline{12}$	E)  $10 + 5 = \underline{15}$	F)  $10 + 8 = \underline{18}$
G)  $10 + 3 = \underline{13}$	H)  $10 + 6 = \underline{16}$	I)  $10 + 9 = \underline{19}$

Imagens disponíveis em: <<https://pixabay.com/pt/>>. Acesso em: 19 set. 2020.

3 - OBSERVE O QUADRO DE NÚMEROS:

1	2	3	4	5	6	7	8	9	10
11	12	13	14	15	16	17	18	19	20
21	22	23	24	25	26	27	28	29	30
31	32	33	34	35	36	37	38	39	40
41	42	43	44	45	46	47	48	49	50

A) QUANTOS NÚMEROS APARECEM NO QUADRO?

40 NÚMEROS.

B) QUANTOS NÚMEROS HÁ EM CADA LINHA?

10 NÚMEROS.

C) A ÚLTIMA LINHA DO QUADRO ESTÁ EM BRANCO. ESCREVA NELA OS PRÓXIMOS DEZ NÚMEROS QUE VEM DEPOIS DE 40.

D) QUAL FOI O MAIOR NÚMERO QUE VOCÊ ESCREVEU?

50

E) PINTE DE AZUL TODOS OS QUADRINHOS EM QUE APARECEM NÚMEROS TERMINADOS EM 0. O QUE VOCÊ OBSERVOU?

OS NÚMEROS QUE APARECEM 0 SÃO DEZENAS COMPLETAS.

F) PINTE DE VERDE TODOS OS QUADRINHOS QUE TEM NÚMEROS TERMINADOS EM 5. O QUE VOCÊ OBSERVOU?

QUE ESSES NÚMEROS TERMINADOS EM 5 OCORREM DE 10 EM 10.
