


**PET 6 – 3º ano – 1ª Semana**  
**Componente Curricular: Matemática**

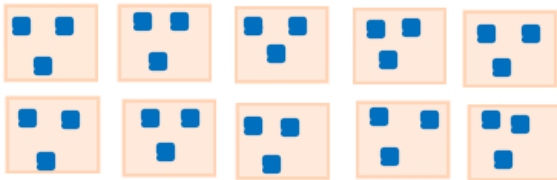
1- Resolva os problemas abaixo e mostre como você pensou.

A) Marcia ganhou 12 peixes e quer distribuir igualmente em 4 aquários. Quantos peixes ficará em cada aquário?

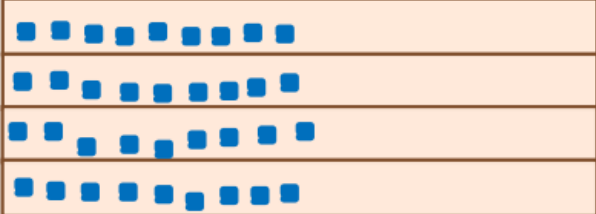
<p>Desenhe ou escreva como você pensou:</p> 	<p>Resposta</p> <p><u>12 : 4 = 3</u></p> <p><u>Cada aquário terá 3 peixinhos.</u></p>
---	---

Disponível em: <<https://www.new-social.com/wp-content/uploads/2017/09/Matem%C3%A1tica-Atividades-de-Divis%C3%A3o-para-3%C2%BA-ano-3.gif>> Acesso em: 28 set. 2020.

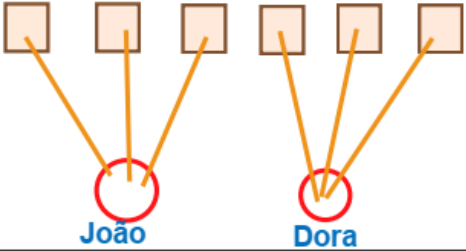
B) Maria comprou 10 pacotes de figurinhas para distribuir entre seus sobrinhos. Em cada pacote há 3 figurinhas. Quantas figurinhas Maria vai distribuir ao todo entre os sobrinhos?

<p>Desenhe ou escreva como você pensou:</p> 	<p>Resposta</p> <p><u>3x10=30</u></p> <p><u>Maria vai distribuir 30 figurinhas.</u></p>
---	---

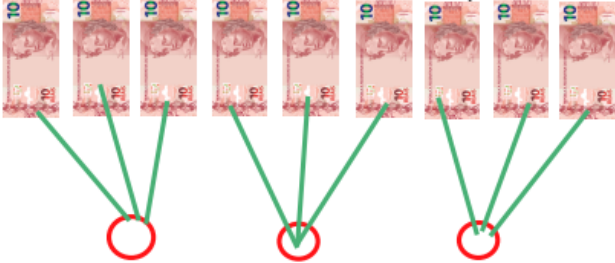
C) Vou distribuir igualmente 36 livros em 4 prateleiras da minha estante. Quantos livros serão colocados em cada prateleira?

<p>Desenhe ou escreva como você pensou:</p> 	<p>Resposta</p> <p><u>36:4=9</u></p> <p><u>Serão colocados 9 livros em cada prateleira.</u></p>
---	---

D) A avó de João e Dora distribuiu igualmente entre eles 6 livros. Quantos livros cada um ganhou?

<p>Desenhe ou escreva como você pensou:</p> 	<p>Resposta</p> <p><u>6:2=3</u></p> <p><u>Cada um ganhou 3 livros.</u></p>
---	--




E) Ana Maria tem 90 reais em notas de 10 reais. Ela quer dividir igualmente essa quantidade em 3 partes, para dar a seus irmãos. Quanto cada um receberá?

<p>Desenhe ou escreva como você pensou:</p> 	<p>Resposta</p> <p><u>90:3=30</u></p> <p><u>Cada um receberá 30 reais.</u></p>
--	--

F) Comprei uma bolsa que custou 50 reais e paguei em 2 prestações iguais. Qual foi o valor de cada parcela?

<p>Desenhe ou escreva como você pensou:</p> 	<p>Resposta</p> <p><u>50:2=25</u></p> <p><u>Cada parcela será de 25 reais.</u></p>
---	--

2 - Observe as situações e complete as sentenças.

<p>A)</p>  <p><math>4 \times 5 = 20</math></p> <p><math>20 \div 4 = 5</math></p>	<p>B)</p>  <p><math>6 \times 4 = 24</math></p> <p><math>24 \div 6 = 4</math></p>	<p>C)</p>  <p><math>3 \times 6 = 18</math></p> <p><math>18 \div 3 = 6</math></p>
---	---	---

Imagens disponíveis em: <https://pixabay.com/pt/> - Acesso em: 14 set. 2020.

**3** - Resolva as divisões usando multiplicação. Veja o exemplo:  $32 \div 4 = 8$ , porque  $8 \times 4 = 32$

A)  $45 \div 5 = 9$  porque  $5 \times 9 = 45$  \_\_\_\_\_

B)  $24 \div 8 = 3$  porque  $3 \times 8 = 24$  \_\_\_\_\_

C)  $14 \div 7 = 2$  porque  $2 \times 7 = 14$  \_\_\_\_\_

D)  $36 \div 9 = 4$  porque  $4 \times 9 = 36$  \_\_\_\_\_