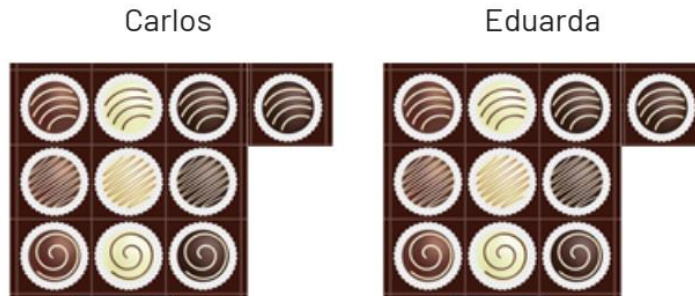


**PET 3 – 2º ano – 1ª Semana**  
**Componente Curricular: Matemática**

**1-** Dona Carmem fez 20 bombons de chocolate para seus filhos. Ela vai dar a metade para cada filho, veja:



Conte os bombons que cada um recebeu e escreva o valor da **metade de vinte**. 10

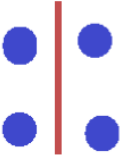
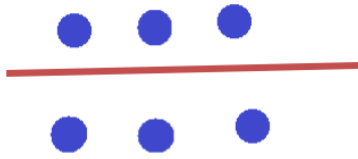
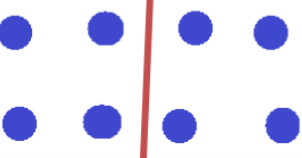
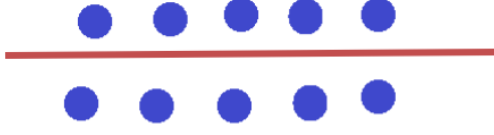
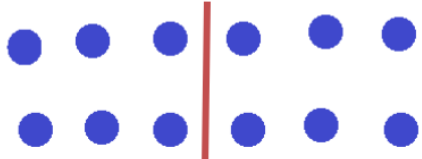
**2 -** As crianças fizeram bolinhas de papel para jogar boliche. Veja:



Carla fez duas bolinhas a mais que João, quer dizer que ela fez o **dobro** de bolinhas de João. Quantas bolinhas Carla fez? 4

**3-** Preencha a tabela escrevendo o valor da **metade** das quantidades. Você pode desenhar a quantidade do número antes de responder .

QUANTIDADE	ILUSTRAÇÃO	VALOR DA METADE
2		1

4		2
6		3
8		4
10		5
12		6

**4** – Descubra qual é o **dobro** e pinte o número correspondente na cor que se pede.

Pinte o valor do dobro de 4 de amarelo

Pinte o valor do dobro de 2 de azul

Pinte o valor do dobro de 5 de vermelho

8

10

4