

PET 2 – 3º ano – 5ª semana – 2021
Componente Curricular: Matemática

1 – Observe os quadriláteros abaixo.

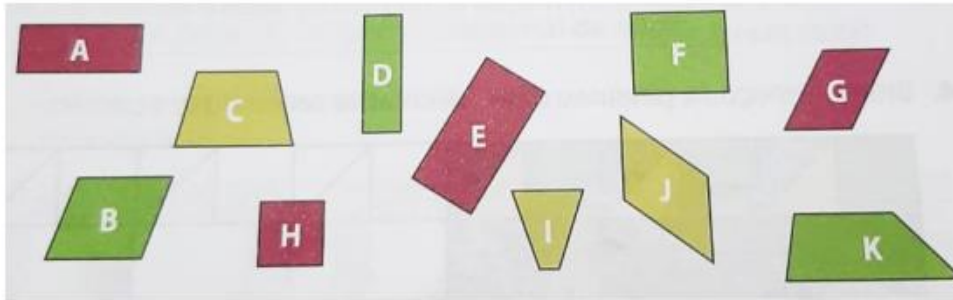







Imagem extraída do livro – 3º ano: integrado - Ensino fundamental - Matemática – pág.8- 2018

Complete a tabela a seguir com a letra correspondente ao nome de cada quadrilátero.

Quadrilátero	Quadrado	Retângulo	Paralelogramo	Trapézio
Letras	H e F	A, D e E	B, G e J	C, I e K

2 – Preencha a tabela a seguir com as informações sobre as figuras planas representadas.

Figura plana					
Nome	Triângulo	Quadrado	Retângulo	Trapézio	Paralelogramo
Número de lados	3	4	4	4	4
Número de vértices	3	4	4	4	4

- O que você observa em relação ao número de lados e vértices de cada figura plana?

O número de lados é igual ao número de vértices.

3 – Considere as figuras representadas na malha a seguir.

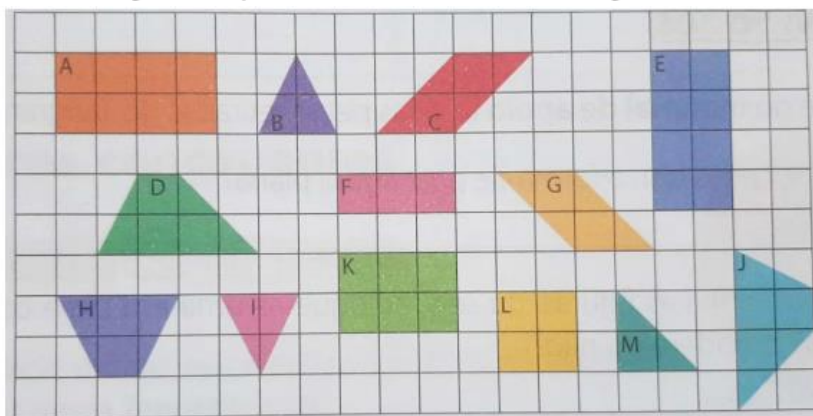


Imagem extraída do livro – 3º ano: integrado - Ensino fundamental - Matemática – pág.12- 2018

a) Quais figuras planas estão representadas nessa malha?

Triângulo, quadrado, retângulo, trapézio, paralelogramo.

b) Preencha a tabela a seguir com as letras que indicam as figuras congruentes a cada figura dada.

Figura	Figura congruente
A	E
B	I
C	G
D	J