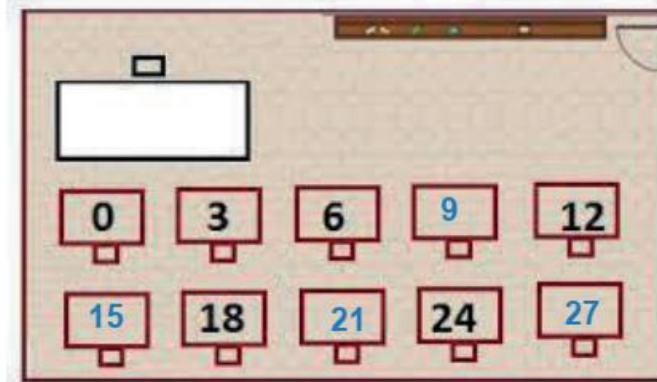


PET 2 – 2º ano – 6ª Semana – 2021
Componente Curricular: Matemática


1- Dona Maria do Carmo organizou a sala de aula para as provas finais. Pediu ajuda a uma aluna para colocar numeração nas carteiras, mas algumas ficaram sem marcação, pois ninguém as ocuparia. Escreva os números das carteiras que não foram marcadas:



Disponível em: <<https://portal.educacao.go.gov.br/wp-content/uploads/2020/09/2a-Quinzena-Matematica-2o-Ano-3o-corte-Atividades-para-Imprimir.pdf>>. Acesso em 29 mar. 2021.

0, 3, 6, 9, 12, 15, 18, 21, 24, 27.

2 - Observe a imagem e desenhe o que falta na sequência.

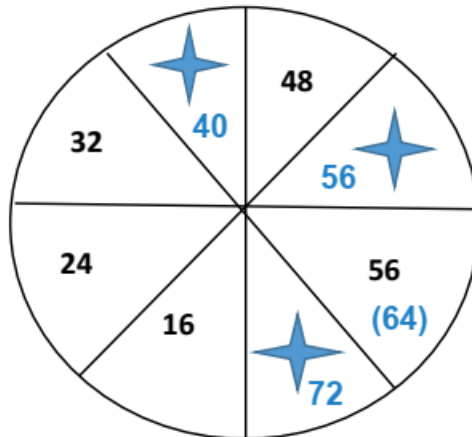


Disponível em: <<https://wordwall.net/pt-br/community/sequ%C3%A2ncias-1%C3%B3gicas>>. Acesso em: 29 mar. 2021.

Escreva o nome das figuras que você desenhou.

Triângulo, estrela, retângulo.

3 - João fez um desenho em seu caderno para propor um desafio a seu amigo Carlos. No desenho ele escreveu alguns números. Veja:



A) Escreva os números que deveriam estar no lugar das estrelas.

40, 56, 64 e 72.

B) Esta sequência possui um padrão, marque a alternativa que representa esse padrão.

- 2 em 2
 4 em 4
 8 em 8
 10 em 10

Escreva os números da sequência numérica em ordem decrescente.

72, 64, 56, 48, 40, 32, 24, 16.

4 - Para fazer um bolo Dona Elza gasta 3 ovos. Observando a quantidade de bolos preencha na tabela a sequência.

1 BOLO	2 BOLOS	3 BOLOS	4 BOLOS	5 BOLOS	6 BOLOS	7 BOLOS	8 BOLOS
3 OVOS	6 OVOS	9 ovos	12 ovos	15 ovos	18 ovos	21 ovos	24 ovos

5 - Caroline está organizando seus brinquedos. Observe as sequências de brinquedos que Caroline colocou nas prateleiras do seu quarto e responda.



Disponível em: <https://br.freepik.com/vetores-premium/brinquedos-nas-prateleiras-brinquedo-de-desenho-animado-na-prateleira-de-madeira-para-compras-de-bebe-dinossauro- robo-carro-boneca-isolada-vector_7273871.htm>. Acesso em: 29 mar. 2021.

A) Quais os brinquedos estão faltando na sequência B?

O dinossauro e a boneca.

B) Quantos brinquedos tem na sequência A?

10 brinquedos.

C) Qual é o brinquedo que na contagem é o número 5?

O caminhão.