

PET 2 – 1º ano – 3ª Semana – 2021
COMPONENTE CURRICULAR: CIÊNCIAS

NOSSO CORPO

O NOSSO CORPO É FORMADO POR TRÊS PARTES:
CABEÇA, TRONCO E MEMBROS.



Disponível em: <<https://i.pinimg.com/236x/d1/24/a4/d124a4450acb67d0d58e63467fed53b4.jpg>>. Acesso em 31 de Março de 2021.

1- COMPLETE AS FRASES ABAIXO USANDO O BANCO DE PALAVRAS. OBSERVE A IMAGEM ACIMA QUE IRÁ TE ORIENTAR NA ATIVIDADE:

| | | | | | | | | | |
|-------|---------|-------|-------|------|---------|--------|------|--------|-----|
| TÓRAX | ABDÓMEN | OLHOS | NARIZ | BOCA | OUVIDOS | BRAÇOS | MÃOS | PERNAS | PÉS |
|-------|---------|-------|-------|------|---------|--------|------|--------|-----|

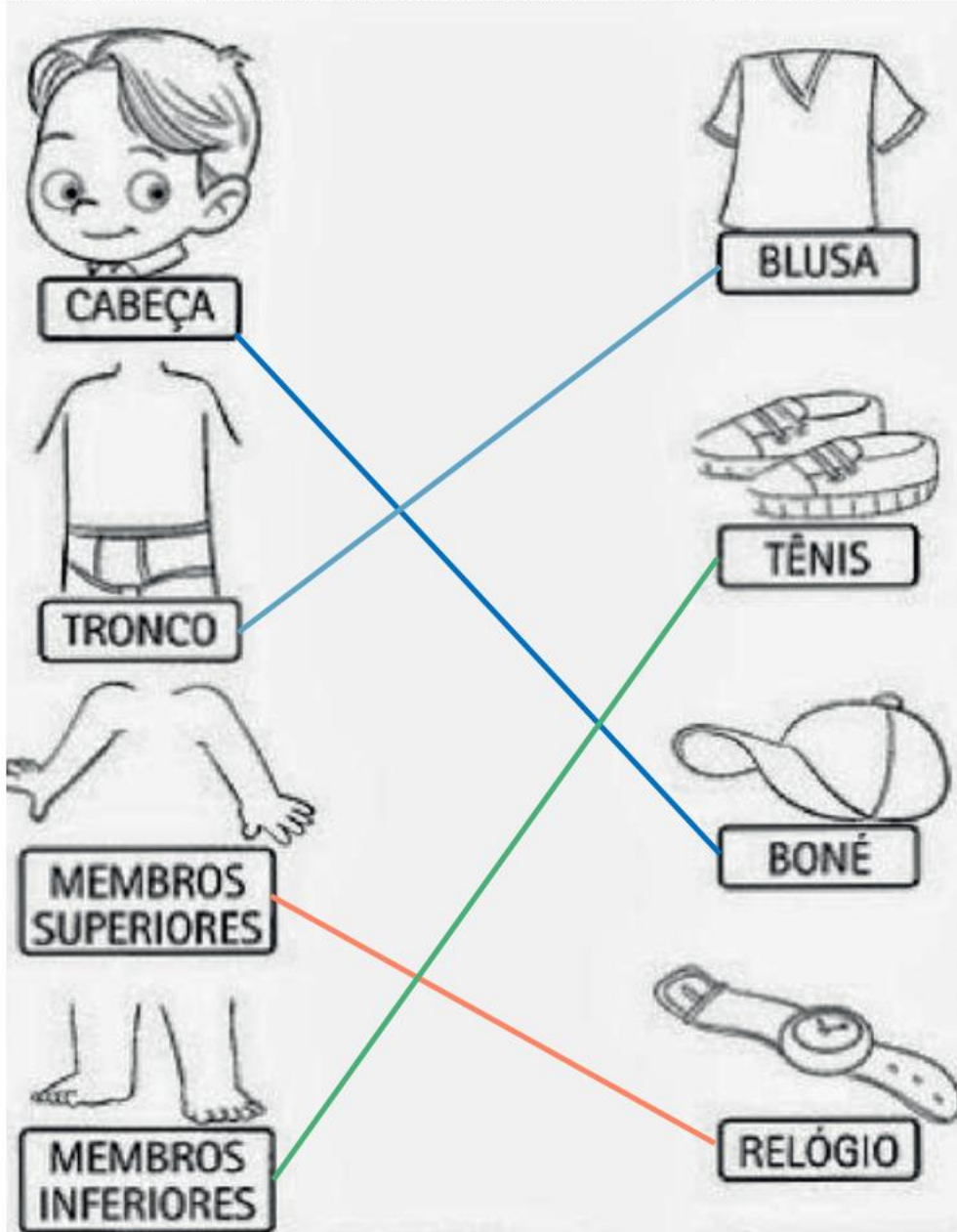
A) NA CABEÇA FICAM OS OLHOS, O NARIZ, A BOCA
E OS OUVIDOS.

B) NO TRONCO FICAM O TÓRAX E O ABDÓMEN.

C) OS MEMBROS SUPERIORES SÃO OS BRAÇOS E AS MÃOS.

D) OS MEMBROS INFERIORES SÃO AS PERNAS E OS PÉS.












2 - LIGUE, CORRETAMENTE, CADA OBJETO ÀS PARTES DO CORPO HUMANO:



Disponível em: <<https://www.soescola.com/2017/10/atividades-de-ciencias-1-ano-2.html/atividades-de-ciencias-1-ano-onde-usamos>>. Acesso em: 30 de Março de 2021.

3 - MARQUE COM UM X CADA OBJETO À PARTE DO CORPO QUE USAMOS PARA ANALISÁ-LO:



| |  |  |  |  |
|---|---|---|--|---|
|  | | X | | |
|  | X | | | |
|  | | | X | |
|  | | | | X |
|  | | | X | |
|  | | | X | |
|  | | X | | |

Disponível em: <https://www.portalescolar.net/2013/03/atividades-corpo-humano-3-4-5-6-anos_5.html>. Acesso em: 31 mar. 2021.

4 - FAÇA UMA FRASE BEM LEGAL USANDO A PALAVRA **CABEÇA**:

RESPOSTA PESSOAL. SUGESTÃO. A CABEÇA FAZ PARTE DO CORPO HUMANO.