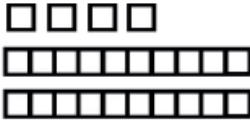
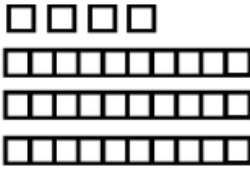
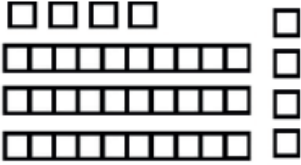
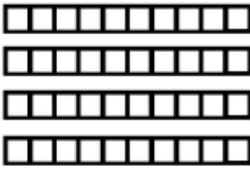



PET 2 – 2º ano – 2ª Semana – 2021
Componente Curricular: Matemática

1- Vamos completar a tabela? Eu já comecei, agora é com você.

DESENHO	NÚMERO	DEZENAS E UNIDADES	OPERAÇÃO
	24	2 dezenas e 4 unidades	20 + 4
	<u>34</u>	<u>3</u> dezenas e <u>4</u> unidades	<u>30</u> + <u>4</u>
	<u>38</u>	<u>3</u> dezenas e <u>8</u> unidades	<u>30</u> + <u>8</u>
	<u>40</u>	<u>4</u> dezenas e <u>0</u> unidades	<u>40</u> + <u>0</u>
	<u>100</u>	<u>10</u> dezenas e <u>0</u> unidades	<u>100</u> + <u>0</u>

2 - Júlio ganhou adesivos de seu avô, cada cartela possui 10 adesivos ou 1 dezena:



A) Quantos são os adesivos? 14 dezenas ou 140 unidades.

B) Como você fez este cálculo? Resposta pessoal. Sugestão: $10+10+10+10+10+10+10+10+10+10+10+10+10 = 140$. Ou $100 + 40 = 140$.

C) As cartelas são iguais, quantos adesivos de cada bicho ele possui? Cada cartela possui 1 adesivo de cada bicho, então ele possui 14 adesivos de cada bicho.

MUNHOZ, Aida Ferreira; NAZARETH, Helenauda; TOLEDO, Marília. Fazer, compreender e criar em Matemática, 2º ano do Ensino Fundamental. São Paulo: IBEP, 2014.

3 - Observe o material dourado e escreva os valores representados.

= 8	= 10
= 26	= 67
= 140	= 194
= 200	= 300
= 50	= 215

4 - Marque um X no quadradinho que mostra a decomposição correta do número 127?

- A) 100 dezenas, 20 unidades.
- B) 10 dezenas e 7 unidades.
- C) 1 centena, 2 dezenas e sete unidades.
- D) 1 centena e 27 dezenas.