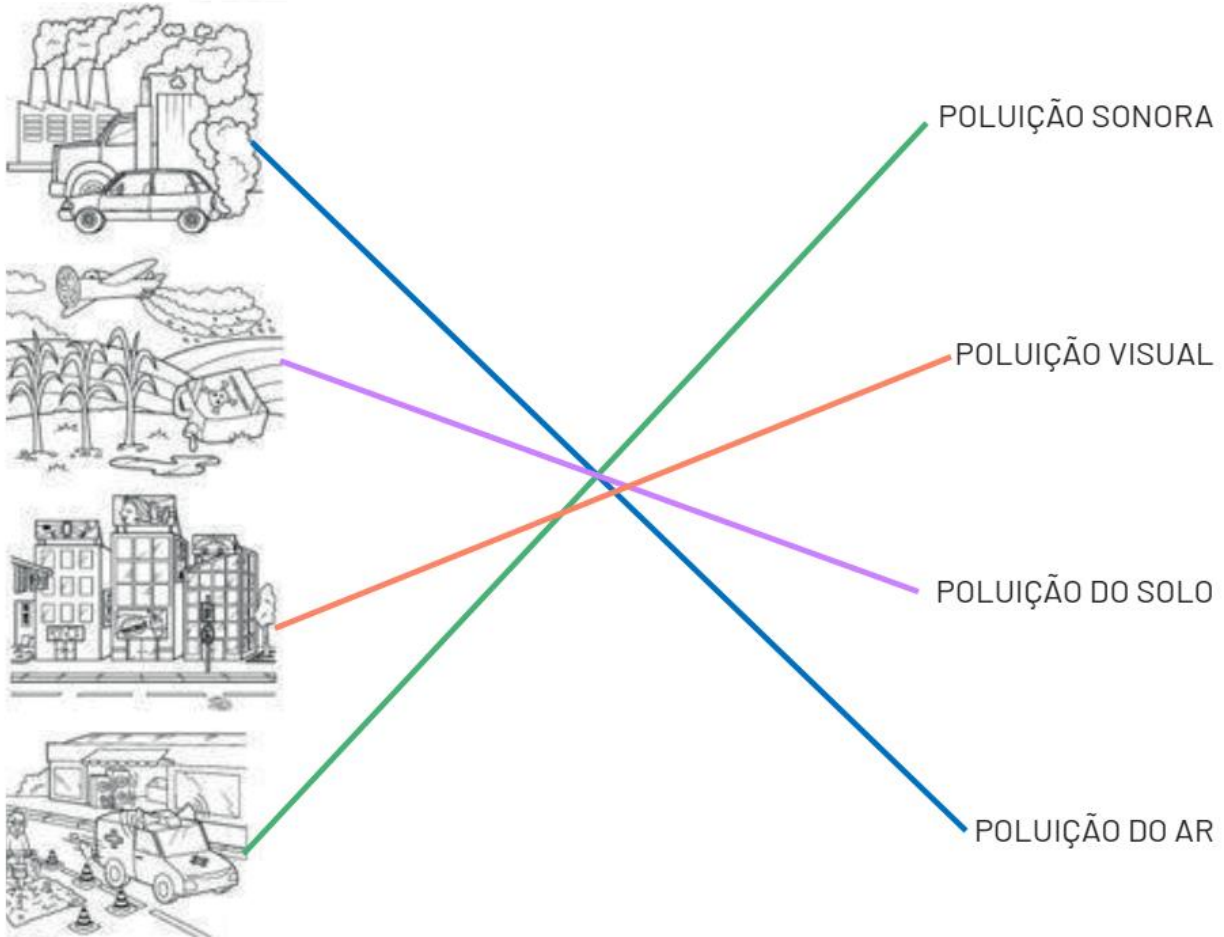



**PET 2 – 1º ANO – 1ª SEMANA – 2021**  
**COMPONENTE CURRICULAR: CIÊNCIAS**

**1- OBSERVE AS IMAGENS ABAIXO E LIGUE CORRETAMENTE:**



Disponível em: <<https://i.pinimg.com/564x/38/e6/0f/38e60f857e4b86301ef36d7fa6464669.jpg>>. Acesso em: 27 de Março de 2021. (adaptada)

**2 -QUAL SERIA SUA REAÇÃO AO VER UM RIO POLUÍDO, CHEIO DE LIXO COM OS PEIXES TODOS MORRENDO? MARQUE O QUADRINHO:**




Disponível em: <<https://i.pinimg.com/564x/d1/99/b0/d199b072de0025ccb01fb8264cd899d3.jpg>>. Acesso em 27 de Março de 2021.

3 - OBSERVE AS IMAGENS ABAIXO E ESCREVA:

1 POLUIÇÃO DAS ÁGUAS


2 POLUIÇÃO DO AR

3 POLUIÇÃO DO SOLO



Disponível em: <<https://i.pinimg.com/564x/27/65/1a/27651a118e207669c50d28e6b73bc32b.jpg>>. Acesso em: 27 de Março de 2021.

4 - OLHE SÓ COMO O PLANETA ESTÁ DOENTE! VAMOS FAZER UM DESENHO DE UM PLANETA SAUDÁVEL? **RESPOSTA PESSOAL.**



Disponível em: <<https://i.pinimg.com/564x/d1/99/b0/d199b072de0025ccb01fb8264cd899d3.jpg>>. Acesso em: 27 de Março de 2021.