

PET 1 – 3º ano – 3ª Semana
Componente Curricular: História

1- Circule o objeto que você usa para **marcar o tempo** de suas atividades diárias, como se levantar, estudar, almoçar, etc?



Imagens disponíveis em: <<https://br.freepik.com/fotos-vetores-gratis/imagens>>. Acesso em: 06 fev. 2021.

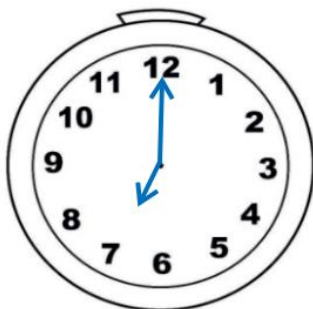
2- Veja o quadro de horas das atividades de Marcos:

HORA	O QUE FAZ
07:00	ACORDA
8:30	FAZ AS ATIVIDADES ESCOLARES
11:00	ALMOÇA
13:00	ASSISTE TELEVISÃO
15:30	BRINCA
18:00	JANTA

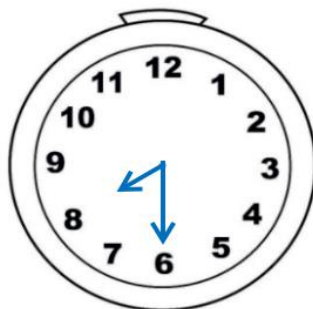


Imagens disponíveis em: <<https://br.freepik.com/fotos-vetores-gratis/imagens>>. Acesso em: 06 fev. 2021.

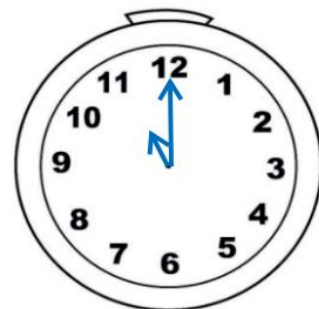
Represente, nos relógios abaixo, as horas das atividades de Marcos de acordo com a tabela acima:



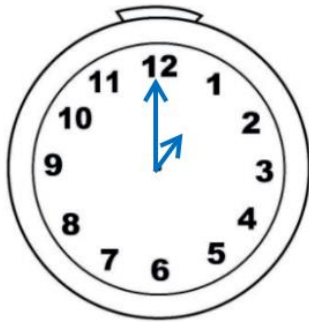
ACORDA



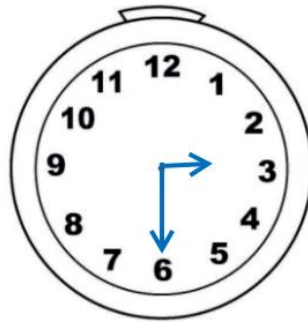
FAZ ATIVIDADES ESCOLARES



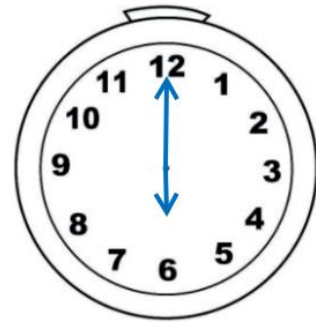
ALMOÇA



ASSISTE TELEVISÃO



BRINCA



JANTA

Imagens disponíveis em: <<https://br.freepik.com/fotos-vetores-gratis/imagens>>. Acesso em: 06 fev. 2021.

3 - Observe o mês de março e responda:



Imagens disponíveis em: <<https://br.freepik.com/fotos-vetores-gratis/imagens>>. Acesso em: 06 fev. 2021.

A) Quantas dias tem o mês de março?

31 dias.

B) Em que dia da semana será o dia 26 de março?

Será sexta-feira.

C) Por que o dia 8 está circulado no calendário?

Porque é uma data comemorativa. Dia Internacional das Mulheres.