



PET 1 – 1º ano – 4ª Semana
Componente Curricular: Matemática

1 – CIRCULE O ANIMAL QUE ESTÁ ENTRE AS ÁRVORES.



Imagens disponíveis em: <<https://image.freepik.com/vetores-gratis/>>. Acesso em: 15 fev. 2021.

2 – MARQUE UM X NO ANIMAL QUE SEGUE NA DIREÇÃO CONTRÁRIA DOS OUTROS.



Imagens disponíveis em: <<https://image.freepik.com/vetores-gratis/>>. Acesso em: 15 fev. 2021.

3 – CIRCULE A CRIANÇA QUE ESTÁ ATRÁS DO MENINO E FAÇA UM X NA CRIANÇA QUE ESTÁ NA FRENTE DO MENINO.




Disponível em: <<https://acessaber.com.br/atividades/atividade-de-matematica>>. Acesso em: 10 fev. 2021.

4 - PINTE DE VERMELHO O QUE ESTÁ EM CIMA DA MESA E DE AMARELO O QUE ESTÁ EMBAIXO.




Disponível em: <<https://accessaber.com.br/atividades/atividade-de-matematica-em-cima-ou-em-baixo/>>. Acesso em: 10 fev. 2021.

5 - PINTE SÓ OS OBJETOS QUE ESTÃO NA MÃO DIREITA DAS MENINAS. CIRCULE OS QUE ESTÃO NA MÃO ESQUERDA.



b4/
121.

6 - FAÇA UM X PERTO DAS CRIANÇAS QUE ESTÃO DE FRENTE E PINTE DE AZUL AS QUE ESTÃO DE COSTAS.



Atividades adaptadas de: <<https://www.ahoradecolorir.com.br/2018/05/conceitos-basicos-da-matematica-para-o.html>>. Acesso em: 10 fev. 2021.